



**Staff Selection Commission**  
(Government Of India)

**REGISTRATION NUMBER :**  
**EXAM DATE : 22-August-2017**  
**EXAM NAME : SSC Examination**  
**TOTAL MARKS : 200**

**CANDIDATE NAME :**  
**EXAM START TIME : 13:15:00 EXAM**  
**DURATION : 01:00 Hrs**  
**TOTAL NO OF QUESTIONS : 100**

**QID : 101** - Select the related word from the given alternatives.

**Alive : Dead :: Question : ?**

दिए गए विकल्पों में से संबंधित शब्द को चुनिए।

**जीवित : मृत :: प्रश्न : ?**

**Options:**

1) Options

विकल्प

2) Answer

उत्तर

3) Right

सही

4) Ask

पूछना

**Correct Answer:** Answer

उत्तर

**Candidate Answer:** Answer

उत्तर

**QID : 102** - Select the related letters from the given alternatives.

**CAE : XZV :: JHL : ?**

दिए गए विकल्पों में से संबंधित अक्षरों को चुनिए।

**CAE : XZV :: JHL : ?**

**Options:**

1) QSO

2) IGK

3) PRU

4) GEI

**Correct Answer:** QSO

**Candidate Answer:** QSO

**QID : 103** - Select the related number from the given alternatives.

**2.25 : 13/4 :: 3.75 : ?**

दिए गए विकल्पों में से संबंधित संख्या को चुनिए।

**2.25 : 13/4 :: 3.75 : ?**

**Options:**

1) 17/4

2) 19/4

3) 15/4

4) 11/4

**Correct Answer:** 19/4

**Candidate Answer:** 19/4

**QID : 104** - Select the odd word from the given alternatives.

दिए गए विकल्पों में से विषम शब्द को चुनिए।

**Options:**

1) Book

पुस्तक

2) Tyre

टायर

3) Bangle

कंगन

4) Compact disk

कॉम्पैक्ट डिस्क

**Correct Answer:** Book

पुस्तक

**Candidate Answer:** Book

पुस्तक

**QID : 105** - Select the odd letters from the given alternatives.

दिए गए विकल्पों में से विषम अक्षरों को चुनिए।

**Options:**

1) NML

2) EDC

3) QRS

4) WVU

**Correct Answer:** QRS

**Candidate Answer:** QRS

**QID : 106** - Select the odd number from the given alternatives.

दिए गए विकल्पों में से विषम संख्या को चुनिए।

**Options:**

1) 18

2) 45

3) 54

4) 55

**Correct Answer:** 55

**Candidate Answer:** 55

**QID : 107** - A series is given, with one word missing. Choose the correct alternative from the given ones that will complete the series.

**master, ember, bombay, animal, abdomen, ?**

एक अनुक्रम दिया गया है, जिसमें एक शब्द लुप्त है। दिए गए विकल्पों में से वह सही विकल्प चुनिए जो अनुक्रम को पूरा करे।

**master, ember, bombay, animal, abdomen, ?**

**Options:**

1) money

2) ambush

3) deform

4) crime

**Correct Answer:** deform

**Candidate Answer:** [ NOT ANSWERED ]

**QID : 108** - A series is given, with one term missing. Choose the correct alternative from the given ones that will complete the series.

**AbCdE, DeFgH, GhIjK, JkLmN, ?**

एक अनुक्रम दिया गया है, जिसमें एक पद लुप्त है। दिए गए विकल्पों में से वह सही विकल्प चुनिए जो अनुक्रम को पूरा करे।

**AbCdE, DeFgH, GhIjK, JkLmN, ?**

**Options:**

- 1) OpQrS
- 2) NoPqR
- 3) MnOpQ
- 4) LmNoP

**Correct Answer:** MnOpQ

**Candidate Answer:** MnOpQ

**QID : 109** - A series is given, with one number missing. Choose the correct alternative from the given ones that will complete the series.

**4, 5.2, 6.4, ?, 8.8**

एक अनुक्रम दिया गया है, जिसमें एक संख्या लुप्त है। दिए गए विकल्पों में से वह सही विकल्प चुनिए जो अनुक्रम को पूरा करे।

**4, 5.2, 6.4, ?, 8.8**

**Options:**

- 1) 7
- 2) 8
- 3) 7.6
- 4) 8.25

**Correct Answer:** 7.6

**Candidate Answer:** 7.6

**QID : 110** - Bobby's birthday is on Monday 5<sup>th</sup> June. On what day of the week will be Pinky's Birthday in the same year if Pinky was born on 22<sup>nd</sup> September?

बॉबी का जन्मदिन 5 जून सोमवार को है। उसी वर्ष पिकी का जन्मदिन सप्ताह के किस दिन को आएगा यदि पिकी का जन्म 22 सितंबर को हुआ है?

**Options:**

- 1) Saturday  
शनिवार
- 2) Wednesday  
बुधवार
- 3) Friday  
शुक्रवार
- 4) Sunday  
रविवार

**Correct Answer:** Friday

शुक्रवार

**Candidate Answer:** Friday

शुक्रवार

**QID : 111** - The weights of 4 boxes are 10, 40, 50 and 80 kilograms. Which of the following cannot be the total weight, in kilograms, of any combination of these boxes and in a combination a box can be used only once?

चार बक्सों का वजन 10, 40, 50 और 80 किलोग्राम है। निम्नलिखित में से बक्सों के किसी भी संयोजन से कुल वजन, किलोग्राम में कौन सा नहीं हो सकता है और एक संयोजन में एक बक्सा एक ही बार प्रयोग में लाया जा सकता है?

**Options:**

- 1) 120
- 2) 100
- 3) 90
- 4) 110

**Correct Answer:** 110

**Candidate Answer:** 110

**QID : 112** - From the given alternative words, select the word which cannot be formed using the letters of the given word:

**ELABORATE**

निम्नलिखित विकल्पों में से वह शब्द चुनिए जो दिए गए शब्द के अक्षरों का प्रयोग करके नहीं बनाया जा सकता:

**ELABORATE**

**Options:**

- 1) BRUTAL
- 2) RELATE
- 3) EARLOBE
- 4) BERATE

**Correct Answer:** BRUTAL

**Candidate Answer:** BRUTAL

**QID : 113** - If **MARBLES** is coded as **PDUEOHV**, then how will **GIN** be coded as?

यदि **MARBLES** को किसी कोड में **PDUEOHV** लिखा जाता है, तो **GIN** को उसी कोड में क्या लिखा जाएगा?

**Options:**

- 1) SEG
- 2) BHU
- 3) WGI
- 4) JLQ

**Correct Answer:** JLQ

**Candidate Answer:** JLQ

**QID : 114** - In a certain code language, '+' represents 'x', '-' represents '+', 'x' represents '÷' and '÷' represents '-'. What is the answer to the following question?

$$54 \times 9 - 3 \div 4 = ?$$

किसी कोड भाषा में, '+' का मतलब 'x' है, '-' का मतलब '+' है, 'x' का मतलब '÷' है और '÷' का मतलब '-' है। निम्नलिखित प्रश्न का उत्तर क्या है?

$$54 \times 9 - 3 \div 4 = ?$$

**Options:**

- 1) 10
- 2) 5
- 3) 2
- 4) 8

**Correct Answer:** 5

**Candidate Answer:** 5

**QID : 115** - If  $14 \% 32 = 46$ ,  $52 \% 20 = 72$  then what is the value of  $35 \% 14 = ?$

यदि  $14 \% 32 = 46$ ,  $52 \% 20 = 72$  तो  $35 \% 14 = ?$  का मान ज्ञात कीजिये।

**Options:**

- 1) 39
- 2) 29
- 3) 19
- 4) 49

**Correct Answer:** 49

**Candidate Answer:** 49

QID : 116 -

Select the missing number from the given responses:

दिए गए विकल्पों में से लुप्त संख्या चुनिए।

36	45	105
12	9	?
3	5	7

Options:

1) 112

2) 98

3) 15

4) 5

Correct Answer: 15

Candidate Answer: 98

QID : 117 - Anu and Bittu start from the same point. Anu walks 35 m South, then turns West and walks 15 m, then turns to his right and walks 45 m. At the same time, Bittu walks 25 m North, then turns to his left and walks 15m. Where is Bittu now with respect to the position of Anu?

अनु और बिट्टू एक ही बिंदु से चलना प्रारंभ करते हैं। अनु, 35 मीटर दक्षिण की ओर चलती है फिर मुड़कर पश्चिम की ओर 15 मीटर चलती है, फिर अपने दाहिनी ओर मुड़कर 45 मीटर चलती है। उसी समय बिट्टू, 25 मीटर उत्तर की ओर चलता है फिर अपनी बाईं ओर मुड़कर 15 मीटर चलता है। अणु की स्थिति से अब बिट्टू कहां पर है?

Options:

1) Bittu is 95 m to the North of Anu

बिट्टू, अनु से 95 मीटर उत्तर की ओर है

2) Bittu is 15 m to the South of Anu

बिट्टू, अनु से 15 मीटर दक्षिण की ओर है

3) Bittu is 15 m to the North of Anu

बिट्टू, अनु से 15 मीटर उत्तर की ओर है

4) Bittu is 95 m to the South of Anu

बिट्टू, अनु से 95 मीटर दक्षिण की ओर है

Correct Answer: Bittu is 15 m to the North of Anu

बिट्टू, अनु से 15 मीटर उत्तर की ओर है

Candidate Answer: Bittu is 15 m to the North of Anu

बिट्टू, अनु से 15 मीटर उत्तर की ओर है

QID : 118 - In the question a statement is given, followed by two arguments, I and II. You have to consider the statement to be true even if it seems to be at variance from commonly known facts. You have to decide which of the given arguments, if any, is a strong argument.

Statement : Should sale of alcohol near highways be banned?

Argument I : No, people should have freedom to decide as it is their fundamental right.

Argument II : Yes, 90% of road accidents involve drivers who are under influence of alcohol.

प्रश्न में एक कथन दिया गया है जिसके आगे दो तर्क I और II दिए गये हैं। आपको मानना है कि कथन सत्य है चाहे वह सामान्यतः ज्ञात तथ्यों से भिन्न प्रतीत होता हो। आपको निर्णय करना है कि दिए गए तर्कों में से कौन-सा/कौन-से तर्क मज़बूत हैं, यदि कोई हो।

कथन : राजमार्गों के पास शराब की बिक्री पर क्या प्रतिबंध लगाया जाना चाहिए?

तर्क 1 : नहीं, लोगों को निर्णय लेने की स्वतंत्रता होनी चाहिए क्योंकि यह उनका मौलिक अधिकार है।

तर्क 2 : हां, 90% सड़क दुर्घटनाओं में ड्राइवर जो कि शराब के प्रभाव में आते हैं वे शामिल हैं।

**Options:**

1) if only argument I is strong.

यदि केवल तर्क I मजबूत है

2) if only argument II is strong.

यदि केवल तर्क II मजबूत है

3) if both I and II are strong.

यदि दोनों तर्क I और II मजबूत हैं

4) if neither I nor II is strong.

यदि ना तो तर्क I और ना ही तर्क II मजबूत है

**Correct Answer:** if both I and II are strong.

यदि दोनों तर्क I और II मजबूत हैं

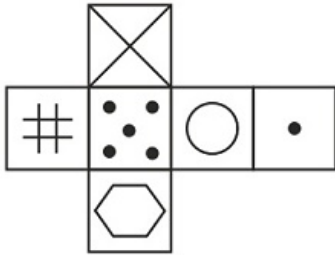
**Candidate Answer:** if only argument II is strong.

यदि केवल तर्क II मजबूत है

**QID : 119 -**

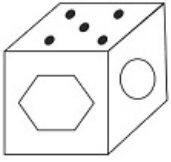
Which of the following cube in the answer figure cannot be made based on the unfolded cube in the question figure?

निम्नलिखित उत्तर आकृति में से कौन सा घन दिए गए प्रश्न आकृति में से खुले घन से बनाया नहीं जा सकता?

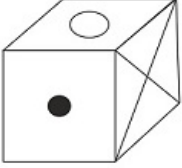


Options:

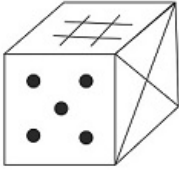
1)



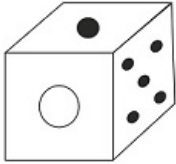
2)



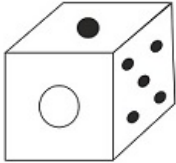
3)



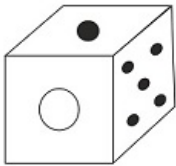
4)



Correct Answer:



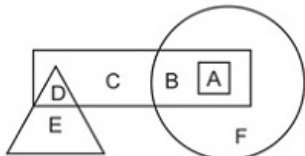
Candidate Answer:



QID : 120 -

In the following figure, square represents doctors, triangle represents artists, circle represents weight-lifters and rectangle represents Russians. Which set of letters represents Russians who are not doctors?

निम्नलिखित आकृति में, वर्ग चिकित्सकों को दर्शाता है, त्रिभुज कलाकारों को दर्शाता है, वृत्त वेट लिफ्टर्स को दर्शाता है और आयत रशियंस को दर्शाता है। अक्षरों का कौन सा समूह उन रशियंस को दर्शाता है जो चिकित्सक नहीं हैं।



**Options:**

- 1) A
- 2) E,F,A
- 3) A, B,C
- 4) B,C,D

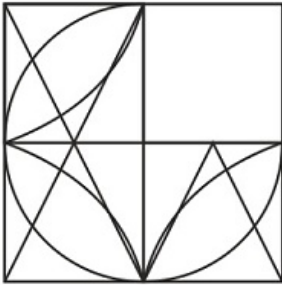
**Correct Answer:** B,C,D

**Candidate Answer:** B,C,D

**QID : 121 -**

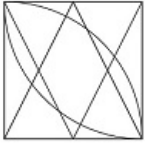
Which answer figure will complete the pattern in the question figure?

निम्नलिखित में से कौन-सी उत्तर आकृति प्रश्न आकृति के प्रतिरूप को पूरा करेगी?



**Options:**

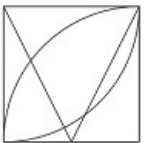
1)



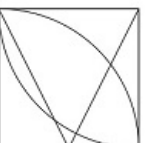
2)



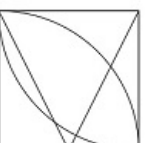
3)



4)

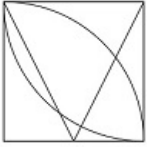


**Correct Answer:**





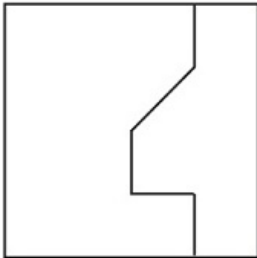
Candidate Answer:



QID : 122 -

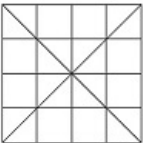
From the given answer figures, select the one in which the question figure is hidden/embedded.

दी गई उत्तर आकृतियों में से उस आकृति को चुनिए जिसमें प्रश्न आकृति निहित है।



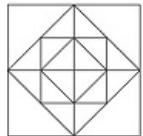
Options:

1)

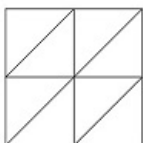


2)

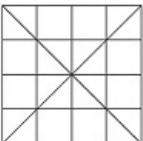
3)



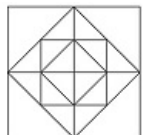
4)



Correct Answer:



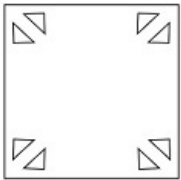
Candidate Answer:



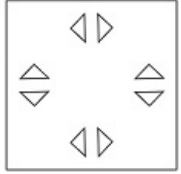
QID : 123 -

**Options:**


1)



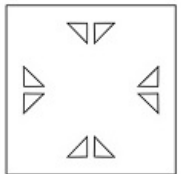
2)



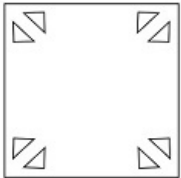
3)



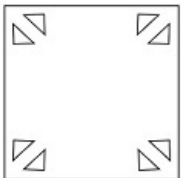
4)



**Correct Answer:**



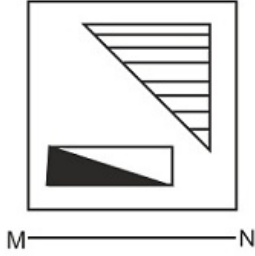
**Candidate Answer:**



**QID : 124 -**

If a mirror is placed on the line MN, then which of the answer figures is the right image of the given figure?

यदि एक दर्पण को MN रेखा पर रखा जाए तो दी गई उत्तर आकृतियों में से कौन-सी आकृति प्रश्न आकृति का सही प्रतिबिम्ब होगी?



**Options:**

1)



2)



3)



4)



**Correct Answer:**



**Candidate Answer:**



**QID : 125 -**

A word is represented by only one set of numbers as given in any one of the alternatives. The sets of numbers given in the alternatives are represented by two classes of alphabets as shown in the given two matrices. The columns and rows of Matrix-I are numbered from 0 to 4 and that of Matrix-II are numbered from 5 to 9. A letter from these matrices can be represented first by its row and next by its column, for example 'K' can be represented by 14, 03 etc and 'Z' can be represented by 58, 69 etc. Similarly, you have to identify the set for the word 'FUEL'.

एक शब्द केवल एक संख्या-समूह द्वारा दर्शाया गया है, जैसा कि विकल्पों में से किसी एक में दिया गया है। विकल्पों में दिए गए संख्या-समूह अक्षरों के दो वर्गों द्वारा दर्शाए गए हैं, जैसा कि दिए गए दो आव्यूहों में है। आव्यूह-I के स्तम्भ और पंक्ति की संख्या 0 से 4 और आव्यूह-II की 5 से 9 है। इन आव्यूहों से एक अक्षर को पहले उसकी पंक्ति और बाद में स्तम्भ संख्या द्वारा दर्शाया जा सकता है। उदाहरण के लिए 'K' को 14, 03 आदि द्वारा दर्शाया जा सकता है तथा 'Z' को 58, 69 आदि द्वारा दर्शाया जा सकता है। इसी तरह से आपको प्रश्न में दिए शब्द 'FUEL' के लिए समूह को पहचानना है।

Matrix I		आव्यूह - I			
	0	1	2	3	4
0	I	C	L	K	J
1	C	J	I	I	K
2	H	F	E	I	A
3	F	I	L	H	B
4	D	G	G	B	D

Matrix II		आव्यूह - II			
	5	6	7	8	9
5	U	N	N	Z	S
6	S	O	U	T	Z
7	W	T	P	V	O
8	V	Y	U	Y	P
9	T	R	V	Z	O

**Options:**

- 1) 21,55,22,02
- 2) 56,12,87,22
- 3) 23,45,12,22
- 4) 11,02,32,65

**Correct Answer:** 21,55,22,02**Candidate Answer:** 21,55,22,02**QID : 126** - The demand for a normal good decreases with \_\_\_\_\_ in the consumer's income.

किसी सामान्य वस्तु की मांग में गिरावट, उपभोक्ता की आय में \_\_\_\_\_ के साथ होती है।

**Options:**

- 1) increase  
वृद्धि
- 2) decrease  
गिरावट
- 3) constant  
स्थिर
- 4) double  
दुगना

**Correct Answer:** decrease

गिरावट

**Candidate Answer:** constant

स्थिर

**QID : 127** - Short run marginal cost curve cuts the short run average cost curve from \_\_\_\_\_ at the minimum point of short run average cost.

अल्पकालीन सीमांत लागत वक्र, अल्पकालीन औसत लागत वक्र को \_\_\_\_\_ से अल्पकालीन औसत लागत के न्यूनतम बिंदु पर काटता है।

**Options:**

- 1) top  
ऊपर
- 2) below  
निचे
- 3) right  
दाएं
- 4) left  
बाएं

**Correct Answer:** below

निचे

**Candidate Answer:** left

बाएं

**QID : 128** - "Naval, military and air force works" is listed in the \_\_\_\_\_ list given in the Seventh Schedule in the Constitution of India.

नौसेना, सैन्य और वायु सेना का काम" भारत के संविधान की सातवीं अनुसूची में दी गयी \_\_\_\_\_ सूची में सूचीबद्ध है।

**Options:**

- 1) Union  
केंद्रीय
- 2) State  
राज्य
- 3) Global  
विश्व
- 4) Concurrent  
समवर्ती

**Correct Answer:** Union

केंद्रीय

**Candidate Answer:** Union

केंद्रीय

**QID : 129** - There are total \_\_\_\_\_ parliamentary seats (Lok Sabha constituency) in Uttarakhand.

उत्तराखंड में कुल \_\_\_\_\_ संसदीय सीटें (लोकसभा निर्वाचन क्षेत्र) हैं।

**Options:**

- 1) 14
- 2) 5
- 3) 80
- 4) 2

**Correct Answer:** 5

**Candidate Answer:** 5

**QID : 130** - \_\_\_\_\_ first became the capital of a kingdom under the Tomara Rajputs.

\_\_\_\_\_ सबसे पहले तोमर राजपूतों के काल में राजधानी बनी।

**Options:**

- 1) Delhi  
दिल्ली
- 2) Pataliputra  
पाटलिपुत्र
- 3) Calcutta  
कलकत्ता
- 4) Taxila  
तक्षशिला

**Correct Answer:** Delhi

दिल्ली

**Candidate Answer:** Calcutta

कलकत्ता

**QID : 131** - Noor Jahan was the wife of which Mughal emperor?

नूरजहां किस मुगल शासक की पत्नी थी?

**Options:**

- 1) Babur  
बाबर
- 2) Akbar  
अकबर
- 3) Shah Jahan  
शाह जहां
- 4) Jahangir  
जहांगीर

**Correct Answer:** Jahangir

जहांगीर

**Candidate Answer:** Jahangir

जहांगीर

**QID : 132** - \_\_\_\_\_ resources are those resources whose quantity is known.

\_\_\_\_\_ संसाधन वे संसाधन होते हैं जिनकी मात्रा ज्ञात होती है।

**Options:**

- 1) Natural resources  
प्राकृतिक संसाधन
- 2) Actual resources  
वास्तविक संसाधन
- 3) Potential resources  
संभाव्य संसाधन
- 4) Abiotic resources  
अजैव संसाधन

**Correct Answer:** Actual resources

वास्तविक संसाधन

**Candidate Answer:** Abiotic resources

अजैव संसाधन

**QID : 133** - The main mineral constituents of the continental mass are \_\_\_\_\_ and alumina.

महाद्वीपीय संहति मुख्य रूप से \_\_\_\_\_ और ऐलुमिना जैसे खनिजों से बनी है।

**Options:**

- 1) iron oxide  
आयरन ऑक्साइड
- 2) silica  
सिलिका
- 3) water  
पानी
- 4) oxygen  
ऑक्सीजन

**Correct Answer:** silica

सिलिका

**Candidate Answer:** silica

सिलिका

**QID : 134** - Among plants, three different genera Solanum, Petunia and Datura are placed in which family?

पौधों में तीन विभिन्न वंश सोलेनम, पिटूनिया और धतूरा को किस कुल में रखा गया है?

**Options:**

- 1) Cnidae  
कैनसीडी
- 2) Solanaceae  
सोलेनेसी
- 3) Felis  
फेलिस
- 4) Felidae  
फेलिडी

**Correct Answer:** Solanaceae

सोलेनेसी

**Candidate Answer:** Solanaceae

सोलेनेसी

**QID : 135** - The members of chlorophyceae are commonly called \_\_\_\_\_ algae.

क्लोरोफाइसी के सदस्यों को प्रायः \_\_\_\_\_ शैवाल कहते हैं।

**Options:**

1) Green

हरा

2) Brown

भूरा

3) Red

लाल

4) Yellow

पीला

**Correct Answer:** Green

हरा

**Candidate Answer:** Green

हरा

**QID : 136** - The body cavity which is lined by mesoderm is called \_\_\_\_\_.

मीसोडर्म (मध्य त्वचा) से आच्छादित शरीर गुहा को \_\_\_\_\_ कहते हैं।

**Options:**

1) Coelom

प्रगुहा

2) Chordata

कोर्डेटा

3) Arthropoda

आर्थ्रोपोडा

4) Platyhelminthes

प्लेटिहेल्मिन्थिज

**Correct Answer:** Coelom

प्रगुहा

**Candidate Answer:** Platyhelminthes

प्लेटिहेल्मिन्थिज

**QID : 137** - Convex and concave mirrors are examples of?

उत्तल और अवतल दर्पण किसके उदाहरण हैं?

**Options:**

1) Plane mirrors

समतल दर्पण

2) Spherical mirrors

गोलीय दर्पण

3) Inverted mirror

उल्टा दर्पण

4) Erect mirror

सीधा दर्पण

**Correct Answer:** Spherical mirrors

गोलीय दर्पण

**Candidate Answer:** Spherical mirrors

गोलीय दर्पण

**QID : 138** - The frictional force exerted by fluids is also called \_\_\_\_\_.

तरलों द्वारा लगाए गए घर्षण बल को \_\_\_\_\_ कहते हैं।

**Options:**

1) drag

कर्षण

2) buoyancy

उत्प्लावकता

3) upthrust

उत्क्षेप

4) convection

संवहन

**Correct Answer:** drag

कर्षण

**Candidate Answer:** upthrust

उत्क्षेप

**QID : 139** - Using \_\_\_\_\_ one can resize, tag digital images, organise pictures into albums by drag and drop, can export the pictures for external use (by e-mail or print).

\_\_\_\_\_ का उपयोग करते हुए डिजिटल चित्रों का आकार बदला जा सकता है, उन्हें टैग किया जा सकता है, इन्हें ड्रैग एंड ड्रॉप विकल्प द्वारा एल्बम में सजाया जा सकता है, बाहरी उपयोग के लिए तस्वीरों को भेजा जा सकता है (ई-मेल या प्रिंट)।

**Options:**

1) Data Organiser

डाटा आर्गनाइजर

2) Facebook Organiser

फेसबुक आर्गनाइजर

3) Image Organiser

इमेज आर्गनाइजर

4) Media Organiser

मीडिया आर्गनाइजर

**Correct Answer:** Image Organiser

इमेज आर्गनाइजर

**Candidate Answer:** Image Organiser

इमेज आर्गनाइजर

**QID : 140** - A change in which one or more new substances are formed is called \_\_\_\_\_.

वह परिवर्तन जिसमें एक या एक से अधिक नए पदार्थ बनते हैं \_\_\_\_\_ कहलाता है।

**Options:**

1) Physical Change

भौतिक परिवर्तन

2) Chemical Change

रासायनिक परिवर्तन

3) Rusting

जंग लगना

4) Galvanisation

यशद लेपन (गैल्वेनाइजेशन)

**Correct Answer:** Chemical Change

रासायनिक परिवर्तन

**Candidate Answer:** Chemical Change

रासायनिक परिवर्तन

**QID : 141** - The property of metals by which they can be beaten into thin sheets is called \_\_\_\_\_.

धातुओं का गुण जिसके कारण उन्हें पीटकर शीट में परिवर्तित किया जा सकता है, \_\_\_\_\_ कहलाता है।

**Options:**

1) ductility

तन्यता

2) malleability

आघातवर्धनीयता

3) viscosity

श्यानता

4) tensile strength

तनन-सामर्थ्य

**Correct Answer:** malleability

आघातवर्धनीयता

**Candidate Answer:** malleability

आघातवर्धनीयता

**QID : 142** - \_\_\_\_\_ is the number of individuals of the same species that have come into the habitat from elsewhere during the time period under consideration.

\_\_\_\_\_ उसी जाती के व्यष्टियों की वह संख्या है जो दी गयी समय अवधि के दौरान आवास में कहीं और से आये हैं।



**Options:**

- 1) Natality  
जन्मदर
- 2) Mortality  
मृत्युदर
- 3) Immigration  
आप्रवासन
- 4) Emigration  
उत्प्रवासन

**Correct Answer:** Immigration

आप्रवासन

**Candidate Answer:** Emigration

उत्प्रवासन

**QID : 143** - \_\_\_\_\_ scheme by the Central Government states that an insurance of 10 lakhs will cover each passenger traveling by Indian Rail while booking a ticket if an amount of 92paise is paid.

केंद्र सरकार की \_\_\_\_\_ योजना के अनुसार यदि भारतीय रेल से यात्रा करने वाला व्यक्ति टिकट की बुकिंग करते समय 92 पैसे का अतिरिक्त भुगतान करता है तो यात्रा के दौरान यात्री का 10 लाख का बीमा रक्षा रहेगा।

**Options:**

- 1) Gangajal Delivery Scheme  
गंगाजल डिलीवरी योजना
- 2) Mission Bhagiratha In Telangana  
मिशन भागीरथी इन तेलंगाना
- 3) National Apprenticeship Promotion  
नेशनल अप्रेंटिसशिप प्रमोशन
- 4) Railway Travel Insurance  
रेल यात्रा बीमा

**Correct Answer:** Railway Travel Insurance

रेल यात्रा बीमा

**Candidate Answer:** Railway Travel Insurance

रेल यात्रा बीमा

**QID : 144** - Who discovered electricity and invented the lightning rod and bifocals?

विद्युत की खोज किसने की और तड़ित चालक और द्विफोकसी का आविष्कार किसने किया?

**Options:**

- 1) Kirkpatrick Macmillan  
किर्कपैट्रिक मैकमिलन
- 2) Benjamin Franklin  
बेंजामिन फ्रैंकलिन
- 3) William Henry Fox Talbot  
विलियम हेनरी फॉक्स टैलबोट
- 4) Sir Alexander Fleming  
सर अलेक्ज़ांडर फ्लेमिङ

**Correct Answer:** Benjamin Franklin

बेंजामिन फ्रैंकलिन

**Candidate Answer:** Benjamin Franklin

बेंजामिन फ्रैंकलिन

**QID : 145** - Which country will be hosting 2018 Men's Hockey World Cup?

2018 के हॉकी विश्व कप (पुरुष) की मेजबानी कौन सा देश करेगा?

**Options:**

- 1) Pakistan  
पाकिस्तान
- 2) Malaysia  
मलेशिया
- 3) Australia  
ऑस्ट्रेलिया
- 4) India  
भारत

**Correct Answer:** India

भारत

**Candidate Answer:** India

भारत

**QID : 146** - Who was the architect of Humayun's Tomb?

हुमायूँ का मकबरा के वास्तुकार कौन थे?

**Options:**

1) Ustad Ahmad of Lahouri

लाहौरी के उस्ताद अहमद

2) George Wittet

जॉर्ज विटेट

3) Mirak Mirza Ghiyath

मिरक मिर्जा घियाथ

4) Yaqut of Dabul

दाबुल के याकूत

**Correct Answer:** Mirak Mirza Ghiyath

मिरक मिर्जा घियाथ

**Candidate Answer:** Ustad Ahmad of Lahouri

लाहौरी के उस्ताद अहमद

**QID : 147** - Which of the following award is to recognize distinguished service of a high order to the nation?

निम्नलिखित में से कौन सा पुरस्कार राष्ट्र के उच्च स्तर की विशिष्ट सेवा को प्रोत्साहित करने के लिए होता है?

**Options:**

1) Padma Bhushan

पद्म भूषण

2) Param Vir Chakra

परम वीर चक्र

3) Padma Vibhushan

पद्म विभूषण

4) Bharat Ratna

भारत रत्न

**Correct Answer:** Padma Bhushan

पद्म भूषण

**Candidate Answer:** Padma Vibhushan

पद्म विभूषण

**QID : 148** - Which of the statements given below are correct?

1. The author of the novel 'A Head Full of Ghosts' is M.R Carey.

2. The author of the novel 'The Cartel' is Don Winslow.

3. The author of the novel 'Dodgers' is Bill Beverly.

निचे दिये गये कथनों में से कौन से कथन सही हैं?

1. उपन्यास "अ हेड फुल ऑफ़ घोस्ट्स" के लेखक एम. आर. कैरी हैं।

2. उपन्यास "द कार्टेल" के लेखक डॉन विनस्लो हैं।

3. उपन्यास "डॉजर्स" के लेखक बिल बेवर्ली हैं।

**Options:**

1) 1 and 2

1 और 2

2) 2 and 3

2 और 3

3) 1 and 3

1 और 3

4) 1, 2 and 3

1, 2 और 3

**Correct Answer:** 2 and 3

2 और 3

**Candidate Answer:** 1, 2 and 3

1, 2 और 3

**QID : 149** - In April 2017, Emma Morano, the world's oldest woman has passed away at the age of 117. Which country was she from?

अप्रैल 2017 में, विश्व की सबसे वृद्ध औरत, एम्मा मोरेनो का 117 साल की उम्र में निधन हुआ। वह किस देश की थी?

**Options:**

- 1) Italy  
इटली
- 2) France  
फ्रांस
- 3) China  
चीन
- 4) Germany  
जर्मनी

**Correct Answer:** Italy

इटली

**Candidate Answer:** France

फ्रांस

**QID : 150** - Bangladesh does not share its border with which Indian state?

बांग्लादेश अपनी सीमा को किस भारतीय राज्य से साझा नहीं करता है?

**Options:**

- 1) Assam  
असम
- 2) Tripura  
त्रिपुरा
- 3) Jharkhand  
झारखंड
- 4) Meghalaya  
मेघालय

**Correct Answer:** Jharkhand

झारखंड

**Candidate Answer:** Jharkhand

झारखंड

**QID : 151** - What least number must be subtracted from 210, so that the sum is completely divisible by 11?

वह न्यूनतम संख्या कौनसी है, जिसे 210 में से घटाये जाने पर प्राप्त राशि 11 से पूरी तरह विभाजित हो जायेगी?

**Options:**

- 1) 2
- 2) 3
- 3) 4
- 4) 1

**Correct Answer:** 1

**Candidate Answer:** 1

**QID : 152** - A can paint a house in 25 days and B can do it in 10 days. Along with C, they did the job in 6.25 days only. Then in how many days, C alone can do the job?

A 25 दिनों में एक घर को रंगलेप कर सकता है और B उसी को 10 दिनों में रंगलेप कर सकता है। C के साथ मिलकर उन्होंने 6.25 दिनों में ही इस काम को पूरा किया। तो C अकेले कितने दिनों में काम पूरा कर सकता है?

**Options:**

- 1) 50
- 2) 40
- 3) 30
- 4) 60

**Correct Answer:** 50

**Candidate Answer:** 50

**QID : 153** - What is the area (in sq cm) of a regular hexagon of side 6 cm?

6 सें.मी. भुजा वाले एक नियमित षट्कोण का क्षेत्रफल (वर्ग सें.मी. में) क्या होगा?

**Options:**

- 1)  $27\sqrt{3}$
- 2)  $54\sqrt{3}$
- 3) 54
- 4) 27

**Correct Answer:**  $54\sqrt{3}$

**Candidate Answer:**  $54\sqrt{3}$

**QID : 154** - If 1 saree is offered free on purchase of 3 sarees, what is the effective discount on each saree?

यदि 3 साड़ी की खरीद पर 1 साड़ी मुफ्त पाने की पेशकश की जाती है, तो प्रत्येक साड़ी पर प्रभावी छूट क्या है?

**Options:**

- 1) 20%
- 2) 30%
- 3) 25%
- 4) 40%

**Correct Answer:** 25%

**Candidate Answer:** 25%

**QID : 155** - The ratio of present ages of R and S is 6:7. Before 12 years the ratio of their ages was 9:11. What is R's present age (in years)?

R और S के वर्तमान आयु का अनुपात 6: 7 है। 12 वर्ष पहले उनकी आयु का अनुपात 9: 11 था। R की वर्तमान आयु (वर्षों में) क्या है?

**Options:**

- 1) 56
- 2) 48
- 3) 36
- 4) 44

**Correct Answer:** 48

**Candidate Answer:** 48

**QID : 156** - The average marks of 10 students in an examination was 25. It was later found that the marks of one student had been wrongly entered as 34 instead of 43. What is the correct average?

एक परीक्षा में 10 छात्रों के औसत अंक 25 थे। बाद में यह पाया गया कि एक छात्र के अंक गलती से 43 के बजाय 34 के रूप में दर्ज किए गए हैं। तो सही औसत क्या है?

**Options:**

- 1) 25.5
- 2) 24.1
- 3) 24.5
- 4) 25.9

**Correct Answer:** 25.9

**Candidate Answer:** 25.9

**QID : 157** - A wholesaler sells a jacket to a retailer at a profit of 25% and the retailer sells it to a customer at a profit of 20%. If the customer pays Rs. 2,400, what had it cost (in Rs) the wholesaler?

एक थोक व्यापारी 25% के लाभ पर खुदरा व्यापारी को एक जैकेट बेचता है और वह खुदरा व्यापारी 20% के लाभ पर ग्राहक को इसे बेचता है। अगर ग्राहक Rs. 2,400 का भुगतान करता है, तो थोक व्यापारी ने कितने (रु में) में खरीदा?

**Options:**

- 1) 2000
- 2) 1600
- 3) 1800
- 4) 2250

**Correct Answer:** 1600

**Candidate Answer:** 1600

**QID : 158** - When a number is increased by 24, it becomes 104% of itself. What is the number?

जब एक संख्या में 24 की वृद्धि की जाती है, तो यह खुद की 104% हो जाती है। वह संख्या क्या है?

**Options:**

- 1) 300
- 2) 100
- 3) 600
- 4) 1200

**Correct Answer:** 600

**Candidate Answer:** 600

**QID : 159** - If a boat goes a certain distance at 30 km/h and comes back the same distance at 20 km/hr, what is the average speed (in km/hr) for the total journey?

अगर एक नाव 30 किमी/घंटे की गति से एक निश्चित दूरी तक जाती है और उसी दूरी को 20 किमी/घंटे की गति से वापस तय करती है, तो कुल यात्रा के लिए औसत गति (कि.मी/घंटा में) क्या है?

**Options:**

- 1) 25
- 2) 24.5
- 3) 24
- 4) 25.5

**Correct Answer:** 24

**Candidate Answer:** 24

**QID : 160** - A sum fetched a total simple interest of Rs 1200 at the rate of 7.5%/yr in 4 years. What is the sum (in Rs)?

एक राशि ने 4 साल में 7.5%/वर्ष की दर से 1200 रु का साधारण ब्याज प्राप्त किया। वह राशि (रु में) क्या है?

**Options:**

- 1) 4000
- 2) 6000
- 3) 8000
- 4) 7500

**Correct Answer:** 4000

**Candidate Answer:** 4000

**QID : 161** - If  $-3[1-(x/2)] + 5x/3 = 1/6$ , then what is the value of x?

यदि  $-3 [1-(x/2)] + 5x/3 = 1/6$ , तो x का मान क्या है?

**Options:**

- 1) 2
- 2) -1
- 3) 1
- 4) -2

**Correct Answer:** 1

**Candidate Answer:** 1

**QID : 162** - If  $a + b = 3$  and  $ab = -4$ , then what is the value of  $a^3 + b^3$ ?

यदि  $a + b = 3$  और  $ab = -4$ , फिर  $a^3 + b^3$  का मान क्या है?

**Options:**

- 1) 36
- 2) 63
- 3) 12
- 4) -15

**Correct Answer:** 63

**Candidate Answer:** 63

**QID : 163** - The sum of a non-zero number and 9 times its reciprocal is 10. What is the number?

एक गैर-शून्य संख्या और इसके व्युत्क्रमानुपाती के 9 गुना का योग 10 है। तो वह संख्या क्या है?

**Options:**

- 1) 10
- 2) 11
- 3) 9
- 4) 90

**Correct Answer:** 9

**Candidate Answer:** 9

**QID : 164** - If the 1st and the 3rd term of an arithmetic progression are -10 and -4, what is the 12th term?

यदि अंकगणितीय प्रगति के पहले और तीसरे पद -10 और -4 हैं, तो 12 वां पद क्या है?

**Options:**

1) 26

2) 20

3) 17

4) 23

**Correct Answer:** 23

**Candidate Answer:** 23

**QID : 165** - What is the reflection of the point (2, -3.5) in the y-axis?

y- अक्ष पर बिंदु (2, -3.5) का प्रतिबिंब क्या है?

**Options:**

1) (-2, 3.5)

2) (-2, -3.5)

3) (-3.5, -2)

4) (3.5, -2)

**Correct Answer:** (-2, -3.5)

**Candidate Answer:** (-2, -3.5)

**QID : 166** - Point A divides segment BC in the ratio 1:3. Co-ordinates of B are (4, -4) and C are (0, 6). What are the co-ordinates of point A?

बिंदु A रेखाखंड BC को 1: 3 के अनुपात में विभाजित करता है। B के निर्देशांक (4, -4) और C के निर्देशांक (0, 6) हैं। बिन्दु 'A' के निर्देशांक क्या हैं?

**Options:**

1) (-3, 1.5)

2) (-1.5, 3)

3) (3, -1.5)

4) (1.5, 3)

**Correct Answer:** (3, -1.5)

**Candidate Answer:** (3, -1.5)

**QID : 167** - What is the slope of the line parallel to the line passing through the points (-2, -1) and (4, -3)?

(-2, -1) और (4, -3) बिंदुओं से होकर गुजरने वाली रेखा के समानांतर रेखा का ढलान कितना है?

**Options:**

1)  $1/3$

2)  $-1/3$

3) -3

4) 3

**Correct Answer:**  $-1/3$

**Candidate Answer:**  $-1/3$

**QID : 168** -  $\Delta XYZ$  is similar to  $\Delta PQR$ . If ratio of perimeters of  $\Delta XYZ : \Delta PQR$  is 3:2 and if  $PQ = 6$  cm then what is the length of  $XY$  (in cm)?

$\Delta XYZ$  ये  $\Delta PQR$  के समान है। यदि  $\Delta XYZ$  और  $\Delta PQR$  की परिधियों का अनुपात 3: 2 है और यदि  $PQ = 6$  सेंटीमीटर है, तो  $XY$  की लंबाई (सेंटीमीटर में) क्या है?

**Options:**

1) 4

2) 8

3) 12

4) 9

**Correct Answer:** 9

**Candidate Answer:** 9

**QID : 169** - Sec 45% + Tan 30% =

Sec 45% + Tan 30% =

**Options:**

1)  $(\sqrt{6} + 1)/\sqrt{3}$

2)  $(1 + \sqrt{3})/2$

3)  $(\sqrt{3} + 2)/\sqrt{3}$

4)  $5/\sqrt{3}$

**Correct Answer:**  $(\sqrt{6} + 1)/\sqrt{3}$

**Candidate Answer:**  $(\sqrt{6} + 1)/\sqrt{3}$

**QID : 170** -  $\Delta DEF$  is right angled at E. If  $m\angle D = 45^\circ$ , then  $\text{Cosec } F =$

$\Delta DEF$  ये E पर समकोण है। यदि  $m\angle D = 45^\circ$  है, तो  $\text{Cosec } F =$

**Options:**

1)  $1/2$

2)  $1/\sqrt{2}$

3)  $\sqrt{2}$

4)  $1/\sqrt{3}$

**Correct Answer:**  $\sqrt{2}$

**Candidate Answer:**  $\sqrt{2}$

**QID : 171** - If  $\text{Cos } \theta = 5/13$ , then  $\text{Cosec } \theta = ?$

यदि  $\text{Cos } \theta = 5/13$ , तो  $\text{Cosec } \theta = ?$

**Options:**

1)  $5/12$

2)  $12/5$

3)  $13/5$

4)  $13/12$

**Correct Answer:**  $13/12$

**Candidate Answer:**  $13/12$

**QID : 172** -

What is the difference in number of employees of company D and company A?

कंपनी D और कंपनी A के कर्मचारियों की संख्या में कितना अंतर है?

**Options:**

1) 100

2) 50

3) 150

4) 200

**Correct Answer:** 100

**Candidate Answer:** 100

**QID : 173** -

If an insurance agent gets to sell policies to all employees of companies B, D and F, then how many policies does he sell?

यदि कोई बीमा एजेंट B, D और F कंपनियों के सभी कर्मचारियों को पॉलिसी बेचना चाहता है, तो वह कितनी पॉलिसियां बेचता है?

**Options:**

1) 750

2) 650

3) 800

4) 700

**Correct Answer:** 750

**Candidate Answer:** 750

**QID : 174 -**

Number of employees in company E are lower than those of company B by:

कंपनी E में कर्मचारियों की संख्या कंपनी B के मुकाबले कितनी कम है:

**Options:**

1) 60%

2) 80%

3) 40%

4) 20%

**Correct Answer:** 80%

**Candidate Answer:** 80%

**QID : 175 -**

If Company B's department which employs 20% of its employees is sold off to company F, then company F will now have how many employees?

यदि कंपनी B का वह विभाग, जिसमें उसके 20% कर्मचारियों को रोजगार दिया गया है, उसे कंपनी F को बेच दिया जाता है, तो कंपनी F में अब कितने कर्मचारी होंगे?

**Options:**

1) 400

2) 450

3) 500

4) 550

**Correct Answer:** 450

**Candidate Answer:** 450

**QID : 176 -** In the following question, some part of the sentence may have errors. Find out which part of the sentence has an error and select the appropriate option. If a sentence is free from error, select 'No Error'.

The sailors divided his (1)/ money around themselves and (2)/ the ship sailed on. (3)/No Error (4)

**Options:**

1) 1

2) 2

3) 3

4) 4

**Correct Answer:** 2

**Candidate Answer:** 2

**QID : 177 -** In the following question, some part of the sentence may have errors. Find out which part of the sentence has an error and select the appropriate option. If a sentence is free from error, select 'No Error'.

Thank you for (1)/ getting me (2)/ of the hook. (3)/No Error (4)

**Options:**

1) 1

2) 2

3) 3

4) 4

**Correct Answer:** 3

**Candidate Answer:** 4

**QID : 178 -** In the following question, the sentence given with blank to be filled in with an appropriate word. Select the correct alternative out of the four and indicate it by selecting the appropriate option.

**It took several men to \_\_\_\_\_ the fallen tree out of our yard.**

**Options:**

1) erect

2) establish

3) haul

4) rivet

**Correct Answer:** haul

**Candidate Answer:** erect



**QID : 179** - In the following question, the sentence given with blank to be filled in with an appropriate word. Select the correct alternative out of the four and indicate it by selecting the appropriate option.

**If you write a forty-page essay in one night, you'll accomplish a huge \_\_\_\_\_.**

**Options:**

- 1) treat
- 2) feat
- 3) fleet
- 4) beat

**Correct Answer:** feat

**Candidate Answer:** feat

**QID : 180** - In the following question, out of the four alternatives, select the word similar in meaning to the word given.

**Whine**

**Options:**

- 1) Gratification
- 2) Luxury
- 3) Thrill
- 4) Gripe

**Correct Answer:** Gripe

**Candidate Answer:** Gripe

**QID : 181** - In the following question, out of the four alternatives, select the word similar in meaning to the word given.

**Requisite**

**Options:**

- 1) Peripheral
- 2) Deadwood
- 3) Trivial
- 4) Precondition

**Correct Answer:** Precondition

**Candidate Answer:** Precondition

**QID : 182** - In the following question, out of the four alternatives, select the word opposite in meaning to the word given.

**Dominate**

**Options:**

- 1) Surrender
- 2) Prevail
- 3) Dictate
- 4) Command

**Correct Answer:** Surrender

**Candidate Answer:** Surrender

**QID : 183** - In the following question, out of the four alternatives, select the word opposite in meaning to the word given.

**Squander**

**Options:**

- 1) Frivol
- 2) Dissipate
- 3) Hoard
- 4) Expend

**Correct Answer:** Hoard

**Candidate Answer:** Hoard

**QID : 184** - In the following question, out of the four alternatives, select the alternative which best expresses the meaning of the idiom/phrase.

**Go for a song**

**Options:**

- 1) One's favourite music
- 2) Happy go lucky attitude
- 3) Sold cheaply
- 4) Something which is prohibitively expensive

**Correct Answer:** Sold cheaply

**Candidate Answer:** Sold cheaply

**QID : 185** - In the following question, out of the four alternatives, select the alternative which best expresses the meaning of the idiom/phrase.

**Make an ass out of**

**Options:**

- 1) Cause someone or oneself to look foolish or stupid
- 2) Work very hard like a donkey
- 3) Be smart but act dumb
- 4) Make a mistake

**Correct Answer:** Cause someone or oneself to look foolish or stupid

**Candidate Answer:** Make a mistake

**QID : 186** - In the following question, out of the four alternatives, select the alternative which will improve the bracketed part of the sentence. In case no improvement is needed, select "no improvement".

I would love to come to your party! Thank you for **(invites)** me.

**Options:**

- 1) invited
- 2) invite
- 3) inviting
- 4) no improvement

**Correct Answer:** inviting

**Candidate Answer:** inviting

**QID : 187** - In the following question, out of the four alternatives, select the alternative which will improve the bracketed part of the sentence. In case no improvement is needed, select "no improvement".

It must **(being)** quite an exciting time to be alive.

**Options:**

- 1) has been
- 2) have been
- 3) been
- 4) no improvement

**Correct Answer:** have been

**Candidate Answer:** have been

**QID : 188** - In the following question, out of the four alternatives, select the alternative which is the best substitute of the words/sentence.

**Full of twists and turns**

**Options:**

- 1) Tortuous
- 2) Smooth
- 3) Cinch
- 4) Fascile

**Correct Answer:** Tortuous

**Candidate Answer:** Fascile

**QID : 189** - In the following question, out of the four alternatives, select the alternative which is the best substitute of the words/sentence.

**The practice of magic**

**Options:**

- 1) Palpable
- 2) Witchery
- 3) Substantial
- 4) Corporal

**Correct Answer:** Witchery

**Candidate Answer:** Witchery

**QID : 190** - In the following question, four words are given out of which one word is correctly spelt. Select the correctly spelt word.

**Options:**

- 1) andulate
- 2) undulate
- 3) undulete
- 4) andulete

**Correct Answer:** undulate

**Candidate Answer:** andulate

**QID : 191** - In the following question, four words are given out of which one word is correctly spelt. Select the correctly spelt word.

**Options:**

- 1) revelars
- 2) rewellers
- 3) revellers
- 4) rewelers

**Correct Answer:** revellers

**Candidate Answer:** revellers

**QID : 192** - The question below consists of a set of labelled sentences. Out of the four options given, select the most logical order of the sentences to form a coherent paragraph.

We drank a little and flung  
**X**-soon were all asleep  
**Y**-sand, thoroughly tired out, and  
**Z**-ourselves down on the

**Options:**

- 1) ZXY
- 2) YZX
- 3) YXZ
- 4) ZYX

**Correct Answer:** ZYX

**Candidate Answer:** ZYX

**QID : 193** - The question below consists of a set of labelled sentences. Out of the four options given, select the most logical order of the sentences to form a coherent paragraph.

Aqueous rocks of equal  
**X**-exhibit in like manner a stratification nearly undisturbed  
**Y**-over the lake-district of North America, and  
**Z**-antiquity extend for hundreds of miles

**Options:**

- 1) ZYX
- 2) ZXY
- 3) YZX
- 4) YXZ

**Correct Answer:** ZYX

**Candidate Answer:** YXZ

**QID : 194** - In the following question, a sentence has been given in Active/Passive voice. Out of the four alternatives suggested, select the one which best expresses the same sentence in Passive/Active voice.

**The class is required to watch a video tutorial every day.**

**Options:**

- 1) A video tutorial is required to be watched by the class everyday.
- 2) A video tutorial is watched by the class every day.
- 3) Every day the class watches a required video tutorial.
- 4) Every day the class is watching a required video tutorial.

**Correct Answer:** A video tutorial is required to be watched by the class everyday.

**Candidate Answer:** A video tutorial is required to be watched by the class everyday.

**QID : 195** - In the following question, a sentence has been given in Direct/Indirect speech. Out of the four alternatives suggested, select the one which best expresses the same sentence in Indirect/Direct speech.

**My father says, "Prices are shooting up alarmingly."**

**Options:**

- 1) My father says that prices shoot up alarmingly.
- 2) My father says that the price was shooting up alarmingly.
- 3) My father says that prices shot up alarmingly.
- 4) My father said that the prices were shooting up alarmingly.

**Correct Answer:** My father said that the prices were shooting up alarmingly.

**Candidate Answer:** My father says that prices shoot up alarmingly.

**QID : 196** - A passage is given with 5 questions following it. Read the passage carefully and choose the best answer to each question out of the four alternatives.

**Many plays and films have depicted the life story of Gautama Buddha, but what made the musical play The Way Across unique was its regional focus. Directed by G. Kumara Swamy, the play adapted from the book Telangana lo Buddhism focused on the enlightenment of a cursed Brahmin Bawari and his 16 curious disciples willing to understand the deeper truths of birth, death, rebirth and brotherhood.**

**From the impressive use of projector visuals, music and shadow-play, there was every effort to lend authenticity to the theme. Despite the play's focus on Telangana, the native essence was compromised, due to the English rendition (done for a wider reach). The lines appeared jaded with literal translations. The honest performances from the crew impacted only on a surface-level. Kiran Kumar's Bawari act and Krishna Chaitanya Joshi as Pingiya (said to have propagated Buddhism from Telangana to several regions across South India) grab your attention.**

What was sacrificed to keep the play in English?

**Options:**

- 1) A wider audience
- 2) Authenticity
- 3) Depiction of reality
- 4) A bit of native essence

**Correct Answer:** A bit of native essence

**Candidate Answer:** A bit of native essence

**QID : 197** - A passage is given with 5 questions following it. Read the passage carefully and choose the best answer to each question out of the four alternatives.

**Many plays and films have depicted the life story of Gautama Buddha, but what made the musical play The Way Across unique was its regional focus. Directed by G. Kumara Swamy, the play adapted from the book Telangana lo Buddhism focused on the enlightenment of a cursed Brahmin Bawari and his 16 curious disciples willing to understand the deeper truths of birth, death, rebirth and brotherhood.**

**From the impressive use of projector visuals, music and shadow-play, there was every effort to lend authenticity to the theme. Despite the play's focus on Telangana, the native essence was compromised, due to the English rendition (done for a wider reach). The lines appeared jaded with literal translations. The honest performances from the crew impacted only on a surface-level. Kiran Kumar's Bawari act and Krishna Chaitanya Joshi as Pingiya (said to have propagated Buddhism from Telangana to several regions across South India) grab your attention.**

What was unique about the play, 'The Way Across'?

**Options:**

- 1) Story line
- 2) Regional focus
- 3) It was a musical
- 4) It was in English

**Correct Answer:** Regional focus

**Candidate Answer:** Regional focus

**QID : 198** - A passage is given with 5 questions following it. Read the passage carefully and choose the best answer to each question out of the four alternatives.

**Many plays and films have depicted the life story of Gautama Buddha, but what made the musical play The Way Across unique was its regional focus. Directed by G. Kumara Swamy, the play adapted from the book Telangana lo Buddhism focused on the enlightenment of a cursed Brahmin Bawari and his 16 curious disciples willing to understand the deeper truths of birth, death, rebirth and brotherhood.**

**From the impressive use of projector visuals, music and shadow-play, there was every effort to lend authenticity to the theme. Despite the play's focus on Telangana, the native essence was compromised, due to the English rendition (done for a wider reach). The lines appeared jaded with literal translations. The honest performances from the crew impacted only on a surface-level. Kiran Kumar's Bawari act and Krishna Chaitanya Joshi as Pingiya (said to have propagated Buddhism from Telangana to several regions across South India) grab your attention.**

Kiran Kumar played the role of the \_\_\_\_\_.

**Options:**

- 1) Buddha's disciple
- 2) Gautama Buddha
- 3) Pingiya
- 4) Cursed Brahmin Bawari

**Correct Answer:** Cursed Brahmin Bawari

**Candidate Answer:** Cursed Brahmin Bawari

**QID : 199** - A passage is given with 5 questions following it. Read the passage carefully and choose the best answer to each question out of the four alternatives.

**Many plays and films have depicted the life story of Gautama Buddha, but what made the musical play The Way Across unique was its regional focus. Directed by G. Kumara Swamy, the play adapted from the book Telangana lo Buddhism focused on the enlightenment of a cursed Brahmin Bawari and his 16 curious disciples willing to understand the deeper truths of birth, death, rebirth and brotherhood.**

**From the impressive use of projector visuals, music and shadow-play, there was every effort to lend authenticity to the theme. Despite the play's focus on Telangana, the native essence was compromised, due to the English rendition (done for a wider reach). The lines appeared jaded with literal translations. The honest performances from the crew impacted only on a surface-level. Kiran Kumar's Bawari act and Krishna Chaitanya Joshi as Pingiya (said to have propagated Buddhism from Telangana to several regions across South India) grab your attention.**

Who helped spread Buddhism to South India?

**Options:**

- 1) Bawari
- 2) Buddha's 16 disciples
- 3) Telangana Buddhists
- 4) Pingiya

**Correct Answer:** Pingiya

**Candidate Answer:** Pingiya

**QID : 200** - A passage is given with 5 questions following it. Read the passage carefully and choose the best answer to each question out of the four alternatives.

**Many plays and films have depicted the life story of Gautama Buddha, but what made the musical play The Way Across unique was its regional focus. Directed by G. Kumara Swamy, the play adapted from the book Telangana lo Buddhism focused on the enlightenment of a cursed Brahmin Bawari and his 16 curious disciples willing to understand the deeper truths of birth, death, rebirth and brotherhood.**

**From the impressive use of projector visuals, music and shadow-play, there was every effort to lend authenticity to the theme. Despite the play's focus on Telangana, the native essence was compromised, due to the English rendition (done for a wider reach). The lines appeared jaded with literal translations. The honest performances from the crew impacted only on a surface-level. Kiran Kumar's Bawari act and Krishna Chaitanya Joshi as Pingiya (said to have propagated Buddhism from Telangana to several regions across South India) grab your attention.**

Who directed the play, 'The Way Across'?

**Options:**

- 1) Kiran Kumar
- 2) G. Kumara Swamy
- 3) Chaitanya Joshi
- 4) Bawari

**Correct Answer:** G. Kumara Swamy

**Candidate Answer:** G. Kumara Swamy