



**Staff Selection Commission**  
(Government Of India)

**REGISTRATION NUMBER :**  
**EXAM DATE : 21-August-2017**  
**EXAM NAME : SSC Examination TOTAL**  
**MARKS : 200**

**CANDIDATE NAME :**  
**EXAM START TIME : 16:15:00**  
**EXAM DURATION : 01:00 Hrs**  
**TOTAL NO OF QUESTIONS : 100**

**QID : 201** - Select the related word from the given alternatives.

**Cow : Milk :: Bees : ?**

दिए गए विकल्पों में से संबंधित शब्द को चुनिए।

**गाय : दूध :: मधुमक्खियां : ?**

**Options:**

- 1) Silk  
रेशम
- 2) Honey  
शहद
- 3) Flower  
फूल
- 4) Water  
जल

**Correct Answer:** Honey

शहद

**Candidate Answer:** Honey

शहद

**QID : 202** - Select the related letters from the given alternatives.

**ACF : GIL :: OQT : ?**

दिए गए विकल्पों में से संबंधित अक्षरों को चुनिए।

**ACF : GIL :: OQT : ?**

**Options:**

- 1) VXY
- 2) UWZ
- 3) RSV
- 4) VXZ

**Correct Answer:** UWZ

**Candidate Answer:** UWZ

**QID : 203** - Select the related number from the given alternatives.

**64 : 8 :: 0.01 : ?**

दिए गए विकल्पों में से संबंधित संख्या को चुनिए।

**64 : 8 :: 0.01 : ?**

**Options:**

- 1) 0.1
- 2) 1
- 3) 10
- 4) 0.08

**Correct Answer:** 0.1

**Candidate Answer:** 0.1

**QID : 204** - Select the odd word from the given alternatives.

दिए गए विकल्पों में से विषम शब्द को चुनिए।

**Options:**

- 1) Stream  
धारा
- 2) Rivulet  
नहर
- 3) River  
नदी
- 4) Valley  
घाटी

**Correct Answer:** Valley  
घाटी

**Candidate Answer:** Valley  
घाटी

**QID : 205** - Select the odd letters from the given alternatives.

दिए गए विकल्पों में से विषम अक्षरों को चुनिए।

**Options:**

- 1) ADG
- 2) HKN
- 3) ORU
- 4) BDF

**Correct Answer:** BDF

**Candidate Answer:** BDF

**QID : 206** - Select the odd number from the given alternatives.

दिए गए विकल्पों में से विषम संख्या को चुनिए।

**Options:**

- 1) 49
- 2) 25
- 3) 8
- 4) 36

**Correct Answer:** 8

**Candidate Answer:** 8

**QID : 207** - A series is given, with one word missing. Choose the correct alternative from the given ones that will complete the series.

**upset, aurora, spurn, strut, status, ?**

एक अनुक्रम दिया गया है, जिसमें एक शब्द लुप्त है। दिए गए विकल्पों में से वह सही विकल्प चुनिए जो अनुक्रम को पूरा करे।

**upset, aurora, spurn, strut, status, ?**

**Options:**

- 1) treasure
- 2) perfect
- 3) right
- 4) unique

**Correct Answer:** treasure

**Candidate Answer:** [ NOT ANSWERED ]

**QID : 208** - A series is given, with one term missing. Choose the correct alternative from the given ones that will complete the series.

**L, N, Q, S, V, ?**

एक अनुक्रम दिया गया है, जिसमें एक पद लुप्त है। दिए गए विकल्पों में से वह सही विकल्प चुनिए जो अनुक्रम को पूरा करे।

**L, N, Q, S, V, ?**

**Options:**

- 1) W
- 2) Y
- 3) Z
- 4) X

**Correct Answer:** X

**Candidate Answer:** X

**QID : 209** - A series is given, with one number missing. Choose the correct alternative from the given ones that will complete the series.

**111, 107.5, 104, ?, 97, 93.5**

एक अनुक्रम दिया गया है, जिसमें एक संख्या लुप्त है। दिए गए विकल्पों में से वह सही विकल्प चुनिए जो अनुक्रम को पूरा करे।

**111, 107.5, 104, ?, 97, 93.5**

**Options:**

1) 100

2) 99.5

3) 100.5

4) 99

**Correct Answer:** 100.5

**Candidate Answer:** [ NOT ANSWERED ]

**QID : 210** - Advik's birthday is on Monday 19<sup>th</sup> June. On what day of the week will be Nishith's Birthday in the same year if Nishith was born on 17<sup>th</sup> November?

अद्विक का जन्मदिन सोमवार 19 जून को है। यदि निशीथ का जन्म 17 नवंबर को है तो उसी वर्ष निशीथ का जन्मदिन सप्ताह में किस दिन होगा?

**Options:**

1) Saturday

शनिवार

2) Wednesday

बुधवार

3) Friday

शुक्रवार

4) Sunday

रविवार

**Correct Answer:** Friday

शुक्रवार

**Candidate Answer:** Friday

शुक्रवार

**QID : 211** - The weights of 4 boxes are 90, 30, 40 and 60 kilograms. Which of the following cannot be the total weight, in kilograms, of any combination of these boxes and in a combination a box can be used only once?

चार बक्सों का वजन 90, 30, 40 और 60 किलोग्राम है। निम्नलिखित में से बक्सों के किसी भी संयोजन से कुल वज़न, किलोग्राम में कौन सा नहीं हो सकता है और एक संयोजन में एक बक्सा एक ही बार प्रयोग में लाया जा सकता है?

**Options:**

1) 200

2) 220

3) 180

4) 130

**Correct Answer:** 200

**Candidate Answer:** [ NOT ANSWERED ]

**QID : 212** - From the given words, select the word which cannot be formed using the letters of the given word.

**JAUNTILY**

निम्नलिखित विकल्पों में से वह शब्द चुनिए जो दिए गए शब्द के अक्षरों का प्रयोग करके नहीं बनाया जा सकता:

**JAUNTILY**

**Options:**

1) NEATLY

2) AUNTY

3) JAUNT

4) UNITY

**Correct Answer:** NEATLY

**Candidate Answer:** NEATLY

**QID : 213** - If **UNCOVER** is coded as **FMXLEVI**, then how will **TIP** be coded as?

यदि **UNCOVER** को किसी कोड में **FMXLEVI** लिखा जाता है, तो **TIP** को उसी कोड में क्या लिखा जाएगा?

Options:

- 1) LTV
- 2) NQV
- 3) KHQ
- 4) GRK

Correct Answer: GRK

Candidate Answer: GRK

QID : 214 - In a certain code language, '+' represents 'x', '-' represents '+', 'x' represents '÷' and '÷' represents '-'. What is the answer to the following question?

$$50 + 5 - 700 \times 28 = ?$$

किसी कोड भाषा में, '+' का मतलब 'x' है, '-' का मतलब '+' है, 'x' का मतलब '÷' है और '÷' का मतलब '-' है। निम्नलिखित प्रश्न का उत्तर क्या है?

$$50 + 5 - 700 \times 28 = ?$$

Options:

- 1) 94
- 2) 100
- 3) 90
- 4) 275

Correct Answer: 275

Candidate Answer: 275

QID : 215 - If  $3 \% 2 = 50$ ,  $2 \% 4 = 60$  then what is the value of  $5 \% 4 = ?$

यदि  $3 \% 2 = 50$ ,  $2 \% 4 = 60$  तो  $5 \% 4 = ?$  का मान ज्ञात कीजिये।

Options:

- 1) 16
- 2) 9
- 3) 90
- 4) 20

Correct Answer: 90

Candidate Answer: [ NOT ANSWERED ]

QID : 216 -

Select the missing number from the given responses

दिए गए विकल्पों में से लुप्त संख्या चुनिए।

23	?	12
6	13	7
138	117	84

Options:

- 1) 9
- 2) 13
- 3) 17
- 4) 15

**Correct Answer:** 9

**Candidate Answer:** 9

**QID : 217** - A paper boy cycles 10 km East, then turns South and cycles 3 km, then turns West and cycles 6 km, then turns to his right and cycles 3 km. Where is he now with reference to his starting position?

एक पेपर वाला लड़का पूर्व की ओर 10 कि.मी. तक साईकिल चलाता है, फिर दक्षिण की ओर मुड़ जाता है और 3 कि.मी. तक साईकिल चलाता है, फिर पश्चिम की ओर मुड़ जाता है और 6 कि.मी. तक साईकिल चलाता है, फिर अपने दाएं ओर मुड़ जाता है और 3 कि.मी. तक साईकिल चलाता है। वह अपनी प्रारंभिक स्थिति से अब कहां है?

**Options:**

1) 4 km West

4 कि.मी. पश्चिम

2) 14 km East

14 कि.मी. पूर्व

3) 4 km East

4 कि.मी. पूर्व

4) 14 km West

14 कि.मी. पश्चिम

**Correct Answer:** 4 km East

4 कि.मी. पूर्व

**Candidate Answer:** 4 km East

4 कि.मी. पूर्व

**QID : 218** - In the question two statements are given, followed by two conclusions, I and II. You have to consider the statements to be true even if it seems to be at variance from commonly known facts. You have to decide which of the given conclusions, if any, follows from the given statements.

Statement 1 : All flowers are leaves.

Statement 2 : Some flowers are plants.

Conclusion I : Some leaves are plants.

Conclusion II : Some plants are flowers.

प्रश्न में दो कथन दिये गये हैं जिसके आगे दो निष्कर्ष I और II निकाले गये हैं। आपको मानना है कि दोनों कथन सत्य है चाहे वह सामान्यतः ज्ञात तथ्यों से भिन्न प्रतीत होते हों। आपको निर्णय करना है की दिए गए निष्कर्षों में से कौन-सा/कौन-से निश्चित रूप से कथन द्वारा सही निकाला जा सकता है/सकते हैं, यदि कोई हो।

कथन 1: सभी फूल पत्ते हैं।

कथन 2: कुछ फूल पौधे हैं।

निष्कर्ष I: कुछ पत्ते पौधे हैं।

निष्कर्ष II: कुछ पौधे फूल हैं।

**Options:**

1) Only conclusion I follows

केवल निष्कर्ष I सही है

2) Only conclusion II follows

केवल निष्कर्ष II सही है

3) Both I and II follow

दोनों निष्कर्ष I और II सही है

4) Neither I nor II follows

ना तो निष्कर्ष I सही है ना ही निष्कर्ष II

**Correct Answer:** Both I and II follow

दोनों निष्कर्ष I और II सही है

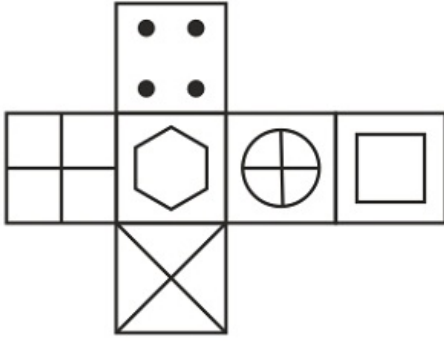
**Candidate Answer:** Both I and II follow

दोनों निष्कर्ष I और II सही है

QID : 219 -

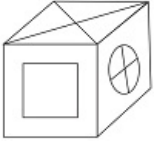
Which of the following cube in the answer figure cannot be made based on the unfolded cube in the question figure?

निम्नलिखित उत्तर आकृति में से कौन सा घन दिए गए प्रश्न आकृति में से खुले घन से बनाया नहीं जा सकता?

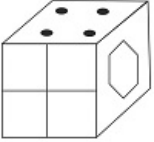


Options:

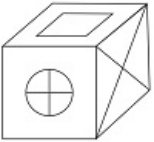
1)



2)



3)



4)

Correct Answer:

Candidate Answer:

QID : 220 -

Options:

1) G,F,D,A

2) B, C

3) C,D

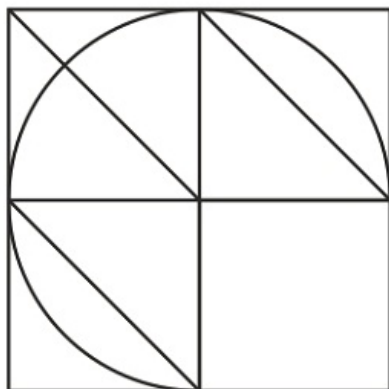
4) B,C,G,F

Correct Answer: B, C

Candidate Answer: B, C

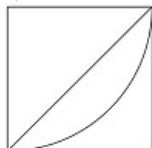
Which answer figure will complete the pattern in the question figure?

निम्नलिखित में से कौन-सी उत्तर आकृति प्रश्न आकृति के प्रतिरूप को पूरा करेगी?



Options:

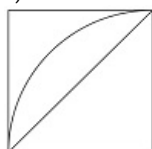
1)



2)

3)

4)

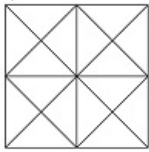


Correct Answer:

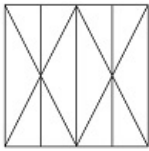
Candidate Answer:

Options:

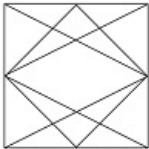
1)



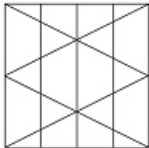
2)



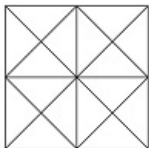
3)



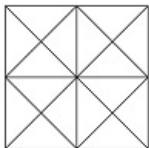
4)



Correct Answer:

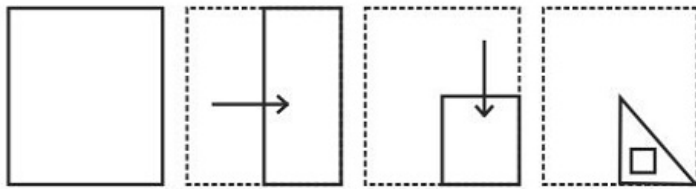


Candidate Answer:



A piece of paper is folded and punched as shown below in the question figures. From the given answer figures, indicate how it will appear when opened.

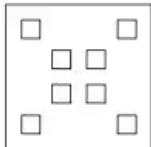
प्रश्न आकृतियों में दिखाए अनुसार कागज को मोड़कर उसमें छेद करने तथा खोलने के बाद वह किस उत्तर आकृति जैसा दिखाई देगा?



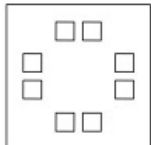
Options:

1)

2)




3)

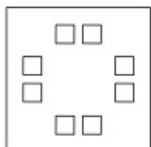


4)

Correct Answer:

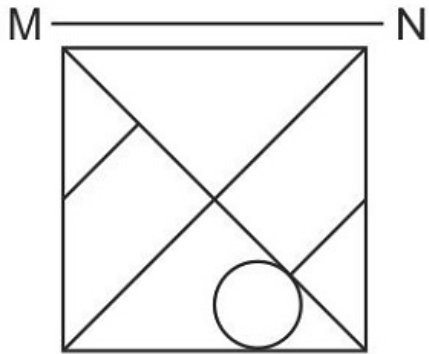


Candidate Answer:



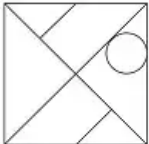
If a mirror is placed on the line MN, then which of the answer figures is the right image of the given figure?

यदि एक दर्पण को MN रेखा पर रखा जाए तो दी गई उत्तर आकृतियों में से कौन-सी आकृति प्रश्न आकृति का सही प्रतिबिम्ब होगी?

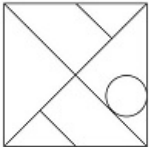


Options:

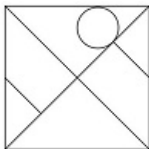
1)



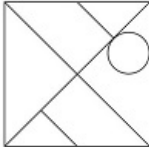
2)



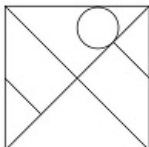
3)



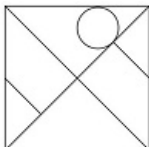
4)



Correct Answer:



Candidate Answer:



**QID : 225 -**

A word is represented by only one set of numbers as given in any one of the alternatives. The sets of numbers given in the alternatives are represented by two classes of alphabets as shown in the given two matrices. The columns and rows of Matrix-I are numbered from 0 to 4 and that of Matrix-II are numbered from 5 to 9. A letter from these matrices can be represented first by its row and next by its column, for example 'K' can be represented by 40, 24 etc and 'Z' can be represented by 98, 67 etc. Similarly, you have to identify the set for the word 'OXEN'.

एक शब्द केवल एक संख्या-समूह द्वारा दर्शाया गया है, जैसा कि विकल्पों में से किसी एक में दिया गया है। विकल्पों में दिए गए संख्या-समूह अक्षरों के दो वर्गों द्वारा दर्शाए गए हैं, जैसा कि दिए गए दो आव्यूहों में है। आव्यूह-I के स्तम्भ और पंक्ति की संख्या 0 से 4 और आव्यूह-II की 5 से 9 है। इन आव्यूहों से एक अक्षर को पहले उसकी पंक्ति और बाद में स्तम्भ संख्या द्वारा दर्शाया जा सकता है। उदाहरण के लिए 'K' को 40, 24 आदि द्वारा दर्शाया जा सकता है तथा 'Z' को 98, 67 आदि द्वारा दर्शाया जा सकता है। इसी तरह से आपको प्रश्न में दिए शब्द 'OXEN' के लिए समूह को पहचानना है।

Matrix I आव्यूह - I					
	0	1	2	3	4
0	G	B	I	K	C
1	L	H	H	H	G
2	L	H	I	A	K
3	A	D	M	G	B
4	K	J	E	L	F

Matrix II आव्यूह - II					
	5	6	7	8	9
5	Z	X	S	R	T
6	O	N	Z	P	T
7	U	R	Q	Z	W
8	V	Q	X	Y	V
9	Y	O	X	Z	N

**Options:**

1) 65,97,42,99

2) 21,33,58,67

3) 44,44,55,58

4) 14,34,55,66

**Correct Answer:** 65,97,42,99

**Candidate Answer:** 65,97,42,99

**QID : 226 -** If the \_\_\_\_\_ firm has zero costs or only has fixed cost, the quantity supplied in equilibrium is given by the point where the average revenue is zero.

यदि \_\_\_\_\_ फर्म की लागत शून्य हो अथवा केवल स्थिर लागत हो तो संतुलन में पूर्ति की मात्रा को उस बिंदु द्वारा दर्शाया जाता है, जिस पर औसत संप्राप्ति शून्य होती है।

**Options:**

1) Perfect Competition

पूर्ण प्रतिस्पर्धा

2) Monopoly

एकाधिकार

3) Oligopoly

अल्पाधिकार

4) Monopolistic Competition

एकाधिकारी प्रतिस्पर्धा

**Correct Answer:** Perfect Competition

पूर्ण प्रतिस्पर्धा

**Candidate Answer:** [ NOT ANSWERED ]

**QID : 227 -** The average variable cost curve is \_\_\_\_ shaped.

औसत परिवर्ती लागत वक्र \_\_\_\_\_ आकर के होते हैं।

**Options:**

1) U

2) V

3) X

4) W

**Correct Answer:** U

**Candidate Answer:** [ NOT ANSWERED ]

**QID : 228** - "Central Bureau of Intelligence and Investigation" is listed in the \_\_\_\_\_ list given in the Seventh Schedule in the Constitution of India.

"केंद्रीय अन्वेषण और आसूचना ब्यूरो" भारत के संविधान की सातवीं अनुसूची में दी गयी \_\_\_\_\_ सूची में सूचीबद्ध है।

**Options:**

1) Union

केंद्रीय

2) State

राज्य

3) Global

विश्व

4) Concurrent

समवर्ती

**Correct Answer:** Union

केंद्रीय

**Candidate Answer:** Union

केंद्रीय

**QID : 229** - There are total \_\_\_\_\_ parliamentary seats (Rajya Sabha constituency) in Odisha.

उड़ीसा में कुल \_\_\_\_\_ संसदीय सीटें (राज्यसभा निर्वाचन क्षेत्र) हैं।

**Options:**

1) 11

2) 19

3) 10

4) 1

**Correct Answer:** 10

**Candidate Answer:** [ NOT ANSWERED ]

**QID : 230** - In 1918, Mahatma Gandhi went to \_\_\_\_\_ to organise a satyagraha movement amongst cotton mill workers.

1918 में महात्मा गांधी सूती कपड़ा कारखानों के मजदूरों के बीच सत्याग्रह आन्दोलन चलाने \_\_\_\_\_ जा पहुंचे।

**Options:**

1) Madras

मद्रास

2) Bombay

बॉम्बे

3) Surat

सूरत

4) Ahmedabad

अहमदाबाद

**Correct Answer:** Ahmedabad

अहमदाबाद

**Candidate Answer:** Ahmedabad

अहमदाबाद

**QID : 231** - Murshid Quli Khan, Alivardi Khan and Sirajuddaullah were all nawabs of \_\_\_\_\_?

मुर्शिद कुली खान, अली वर्दी खान और सिराजुद्दौला कहां के नवाब थे?

**Options:**

1) Lucknow

लखनऊ

2) Varanasi

वाराणसी

3) Hyderabad

हैदराबाद

4) Bengal

बंगाल

**Correct Answer:** Bengal

बंगाल

**Candidate Answer:** Bengal

बंगाल

**QID : 232** - \_\_\_\_\_ affect the rate of humus formation of soil.

\_\_\_\_\_ मृदा के ह्यूमस निर्माण की दर को प्रभावित करते हैं।

**Options:**

- 1) Flora & Fauna  
वनस्पतिजात और प्राणिजात
- 2) Time  
समय
- 3) Temperature  
तापमान
- 4) Parent rock  
जनक चट्टान

**Correct Answer:** Flora & Fauna  
वनस्पतिजात और प्राणिजात

**Candidate Answer:** [ NOT ANSWERED ]

**QID : 233** - The latitudes of main land of India extends between \_\_\_\_\_.

भारत की मुख्य भूमि का अक्षांश \_\_\_\_\_ के बीच फैला हुआ है।

**Options:**

- 1) 8°4' N and 37°6' N  
8°4' उत्तर और 37°6' उत्तर
- 2) 8°4' W and 37°6' W  
8°4' पश्चिम और 37°6' पश्चिम
- 3) 8°4' E and 37°6' E  
8°4' पूर्व और 37°6' पूर्व
- 4) 8°4' S and 37°6' S  
8°4' दक्षिण और 37°6' दक्षिण

**Correct Answer:** 8°4' N and 37°6' N  
8°4' उत्तर और 37°6' उत्तर

**Candidate Answer:** [ NOT ANSWERED ]

**QID : 234** - \_\_\_\_\_ is a straw coloured, viscous fluid constituting nearly 55 per cent of the blood.

\_\_\_\_\_ एक हलके पीले रंग का गाढ़ा तरल पदार्थ है, जो रक्त के आयतन लगभग 55 प्रतिशत होता है।

**Options:**

- 1) Plasma  
प्रदव्य
- 2) Formed Elements  
संगठित संरचनाएं
- 3) Blood Groups  
रक्त समूह
- 4) Coagulation of Blood  
रक्त-स्कंदन

**Correct Answer:** Plasma  
प्रदव्य

**Candidate Answer:** Plasma  
प्रदव्य

**QID : 235** - Sexual reproduction in Algae that takes place through fusion of two similar size gametes is called?

दो समान माप वाले युग्मकों के संगलन से शैवाल में होने वाले लैंगिक जनन को क्या कहते हैं?

**Options:**

- 1) Zoospores  
जूस्पोर
- 2) Anisogamous  
असमयुग्मकी
- 3) Isogamous  
समयुग्मकी
- 4) Oogamous  
नरयुग्मक

**Correct Answer:** Isogamous  
समयुग्मकी

**Candidate Answer:** [ NOT ANSWERED ]

**QID : 236** - Animals in which the cells are arranged in three embryonic layers are called \_\_\_\_\_.

जिन प्राणियों में कोशिकाएं तीन भ्रूणीय स्तरों में व्यवस्थित होती हैं, उन्हें \_\_\_\_\_ कहते हैं।

**Options:**

- 1) Diploblastic  
द्विकोशिक
- 2) Ectoderm  
बाह्य त्वचा
- 3) Triploblastic  
त्रिकोशिक
- 4) Endoderm  
अंतः त्वचा

**Correct Answer:** Triploblastic

त्रिकोरकी

**Candidate Answer:** [ NOT ANSWERED ]

**QID : 237** - An image formed by a concave mirror on a screen is called \_\_\_\_\_?

अवतल दर्पण द्वारा पर्दे पर बनने वाले प्रतिबिंब को क्या कहा जाता है?

**Options:**

1) Virtual image

आभासी प्रतिबिंब

2) Real image

वास्तविक प्रतिबिंब

3) Inverted image

उल्टा प्रतिबिंब

4) Erect image

सीधा प्रतिबिंब

**Correct Answer:** Real image

वास्तविक प्रतिबिंब

**Candidate Answer:** [ NOT ANSWERED ]

**QID : 238** - The distance-time graph for the motion of an object moving with a constant speed is a \_\_\_\_\_.

नियत चाल से गति करने वाली वस्तु का दूरी समय ग्राफ एक \_\_\_\_\_ होता है।

**Options:**

1) Dot

बिंदु

2) Circle

वृत्त

3) Straight Line

सरल रेखा

4) Curve

वक्र

**Correct Answer:** Straight Line

सरल रेखा

**Candidate Answer:** [ NOT ANSWERED ]

**QID : 239** - \_\_\_\_\_ is a collection of data values of same types having a common name.

\_\_\_\_\_ डाटा मान के समान प्रकारों का संग्रह है जिनका समान नाम होता है।

**Options:**

1) Object

वस्तुएं

2) String

स्ट्रिंग

3) Array

विन्यास

4) Numbers

संख्या

**Correct Answer:** Array

विन्यास

**Candidate Answer:** [ NOT ANSWERED ]

**QID : 240** - A \_\_\_\_\_ thread is actually stronger than a steel wire.

\_\_\_\_\_ का तार इस्पात के तार से अधिक प्रबल होता है।

**Options:**

1) wool

ऊन

2) cotton

कपास

3) jute

जूट

4) nylon

नाइलॉन

**Correct Answer:** nylon

नाइलॉन

**Candidate Answer:** [ NOT ANSWERED ]

**QID : 241** - The process of depositing a layer of any desired metal on another material by means of electricity is called \_\_\_\_\_.

विद्युत द्वारा किसी पदार्थ पर किसी वांछित धातु की परत निक्षेपित करने को प्रक्रिया को क्या कहते हैं?

**Options:**

- 1) Electroplating  
विद्युतलेपन
- 2) Galvanisation  
यशद लेपन (गैल्वेनाइजेशन)
- 3) Rusting  
जंग लगना
- 4) Crystallisation  
क्रिस्टलीकरण

**Correct Answer:** Electroplating  
विद्युतलेपन

**Candidate Answer:** Electroplating  
विद्युतलेपन

**QID : 242** - \_\_\_\_\_ refers to the number of births during a given period in the population that are added to the initial density.

\_\_\_\_\_ से मतलब समष्टि में जन्मी उस संख्या से है जो दी गयी अवधि के दौरान आरंभिक घनत्व से जुड़ती है।

**Options:**

- 1) Natality  
जन्मदर
- 2) Mortality  
मृत्युदर
- 3) Immigration  
आप्रवासन
- 4) Emigration  
उत्प्रवासन

**Correct Answer:** Natality  
जन्मदर

**Candidate Answer:** Natality  
जन्मदर

**QID : 243** - \_\_\_\_\_ is a welfare scheme started by the Prime Minister in order to provide LPG connections to domestic households that fall under the below the poverty line category.

\_\_\_\_\_ प्रधानमंत्री द्वारा शुरू की गयी एक कल्याणकारी योजना है जिसके अंतर्गत उन परिवारों को घरेलू एलपीजी कनेक्शन दिए जायेंगे जो गरीबी रेखा से नीचे आते हैं।

**Options:**

- 1) Gram Uday Se Bharat Uday Abhiyan  
ग्राम उदय से भारत उदय अभियान
- 2) Pradhan Mantri Ujjwala Yojana  
प्रधानमंत्री उज्ज्वला योजना
- 3) Pradhan Mantri Surakshit Matritva Yojana  
प्रधानमंत्री सुरक्षित मातृत्व योजना
- 4) Vidyanjali Yojana  
विद्यांजलि योजना

**Correct Answer:** Pradhan Mantri Ujjwala Yojana  
प्रधानमंत्री उज्ज्वला योजना

**Candidate Answer:** Pradhan Mantri Ujjwala Yojana  
प्रधानमंत्री उज्ज्वला योजना

**QID : 244** - Who invented the waterproof raincoat?

जलरोधक रेनकोट का आविष्कार किसने किया?

**Options:**

- 1) Robert Hooke  
रॉबर्ट हुक
- 2) Cai Lun  
की लुन
- 3) Charles Macintosh  
चार्ल्स मैकिन्टोश
- 4) William Harvey  
विलियम हार्वे

**Correct Answer:** Charles Macintosh  
चार्ल्स मैकिन्टोश

**Candidate Answer:** Charles Macintosh  
चार्ल्स मैकिन्टोश

**QID : 245** - In which sport did India win Silver medal at Rio Olympics 2016?

रियो ओलंपिक 2016 में भारत ने किस खेल में रजत पदक जीता?

**Options:**

- 1) Badminton  
बैडमिंटन
- 2) Boxing  
मुक्केबाज़ी
- 3) Hockey  
हॉकी
- 4) Wrestling  
कुश्ती

**Correct Answer:** Badminton  
बैडमिंटन

**Candidate Answer:** Wrestling  
कुश्ती

**QID : 246** - Who was the architect of Taj Mahal?

ताज महल के वास्तुकार कौन थे?

**Options:**

- 1) Ustad Ahmad Lahouri  
उस्ताद अहमद लाहौरी
- 2) Norman Foster  
नोर्मन फोस्टर
- 3) Henry Irwin  
हेनरी इरविन
- 4) Ustad Ghani Utbuddin  
उस्ताद घनी उल्बुद्दीन

**Correct Answer:** Ustad Ahmad Lahouri  
उस्ताद अहमद लाहौरी

**Candidate Answer:** Ustad Ghani Utbuddin  
उस्ताद घनी उल्बुद्दीन

**QID : 247** - The Nobel Prize in Literature 2016 was awarded to?

2016 में साहित्य में नोबेल पुरस्कार से ----- को सम्मानित किया गया था।

**Options:**

- 1) Frank Sinatra  
फ्रैंक सिनाट्रा
- 2) Elvis Presley  
एल्विस प्रेस्ली
- 3) Bob Dylan  
बॉब डिलन
- 4) Jimi Hendrix  
जिमी हैंड्रिक्स

**Correct Answer:** Bob Dylan  
बॉब डिलन

**Candidate Answer:** [ NOT ANSWERED ]

**QID : 248** - Which of the statements given below are not correct?

- 1. The author of 'India 2020: A Vision for the New Millennium' is Shashi Tharoor.
- 2. The author of 'The Great Indian Novel' is A.P.J. Abdul Kalam.
- 3. The author of 'My Country My Life' is I.K Gujral.

निचे दिये गये कथनों में से कौन से कथन सही नहीं हैं।

- 1. 'इंडिया 2020: अ विजन फॉर द न्यू मिलेनिअम' के लेखक शशि थरूर हैं।
- 2. 'द ग्रेट इन्डियन नॉवेल' के लेखक ए.पी.जे. अब्दुल कलाम हैं।
- 3. 'माय कंट्री माय लाइफ' के लेखक आई.के. गुजराल हैं।

**Options:**

- 1) 1 and 2  
1 और 2
- 2) 2 and 3  
2 और 3
- 3) 1 and 3  
1 और 3
- 4) 1, 2 and 3  
1, 2 और 3

**Correct Answer:** 1, 2 and 3  
1, 2 और 3

**Candidate Answer:** [ NOT ANSWERED ]

**QID : 249** - In April 2016, amid rising tension over North Korea, which country launched its first domestically built aircraft carrier?

अप्रैल 2016 में, उत्तर कोरिया पर बढ़ते तनाव के बीच, किस देश ने अपना पहला घरेलू निर्मित विमान वाहक प्रक्षेपित किया?

**Options:**

- 1) South Korea  
दक्षिण कोरिया
- 2) Japan  
जापान
- 3) China  
चीन
- 4) USA  
यूएसए

**Correct Answer:** China  
चीन

**Candidate Answer:** [ NOT ANSWERED ]

**QID : 250** - Which National Park in Nepal is a continuation of India's Valmiki National Park?

नेपाल में कौन सा राष्ट्रीय उद्यान भारत के वाल्मीकि राष्ट्रीय उद्यान की निरंतरता है?

**Options:**

- 1) Chitwan National Park  
चितवन राष्ट्रीय उद्यान
- 2) Bandipur National Park  
बांदीपुर राष्ट्रीय उद्यान
- 3) Dudhwa National Park  
दुधवा राष्ट्रीय उद्यान
- 4) Jim Corbett National Park  
जिम कॉर्बेट राष्ट्रीय उद्यान

**Correct Answer:** Chitwan National Park  
चितवन राष्ट्रीय उद्यान

**Candidate Answer:** Chitwan National Park  
चितवन राष्ट्रीय उद्यान

**QID : 251** - What is the remainder when 2468 is divided by 37?

जब 2468 को 37 द्वारा विभाजित किया जाता है, तब अवशिष्ट क्या होता है?

**Options:**

- 1) 26
- 2) 36
- 3) 18
- 4) 14

**Correct Answer:** 26

**Candidate Answer:** 26

**QID : 252** - A can do 75% of a job in 9 days and B can do half of the job in 8 days. If they work on it together, then in how many days can they do half of the job?

A एक काम का 75% हिस्सा 9 दिनों में पूरा कर सकता है और B 8 दिनों में उस काम का आधा हिस्सा कर सकता है। यदि वे मिलकर इस काम को करते हैं तो वे उस काम का आधा हिस्सा कितने दिनों में कर सकते हैं?

**Options:**

- 1) 40/7
- 2) 24/7
- 3) 7/2
- 4) 9/2

**Correct Answer:** 24/7

**Candidate Answer:** [ NOT ANSWERED ]

**QID : 253** - Area of 4 walls of a cuboid 400 sq cm, its length is 15 cm and height is 8 cm. What is its breadth (in cm)?

एक घनाभ की 4 दीवारों का क्षेत्रफल 400 वर्ग सें.मी. है। इसकी लंबाई 15 सें.मी. और ऊंचाई 8 सें.मी. है। इसकी चौड़ाई (सें.मी. में) क्या है?

**Options:**

- 1) 12
- 2) 20
- 3) 24
- 4) 10

**Correct Answer:** 10

**Candidate Answer:** [ NOT ANSWERED ]

**QID : 254** - At 20% discount the selling price of an article is Rs 2400, what is the selling price (in Rs) if the discount is 32.5%?

20% छूट पर एक वस्तु का बिक्री मूल्य 2400 रु है, यदि छूट 32.5% की हो तो बिक्री मूल्य (रु में) क्या होगा?

**Options:**

- 1) 2125
- 2) 2225
- 3) 2025
- 4) 2325

**Correct Answer:** 2025

**Candidate Answer:** [ NOT ANSWERED ]

**QID : 255** - What is the fourth proportional to 24, 120 and 22?

24, 120 और 22 के चौथे आनुपातिक क्या हैं?

**Options:**

1) 110

2) 120

3) 100

4) 90

**Correct Answer:** 110

**Candidate Answer:** 110

**QID : 256** - What is the average of all numbers between 8 and 74 which are divisible by 7?

8 और 74 के बीच सभी संख्याओं की औसत क्या है जो 7 से विभाज्य हो?

**Options:**

1) 40

2) 41

3) 42

4) 43

**Correct Answer:** 42

**Candidate Answer:** [ NOT ANSWERED ]

**QID : 257** - A trader had 1200 kgs of rice. He sold a part of it at 5% profit and the rest at 11% profit, so that he made a total profit of 7%. How much (in kg) wheat did he sell at 5% profit?

एक व्यापारी के पास 1200 कि.ग्रा. चावल थे। उसने इसका एक हिस्सा 5% लाभ और शेष 11% के लाभ पर बेचा, जिससे कि उसने 7% का कुल मुनाफा कमाया। उसने कितना चावल (कि.ग्रा में) 5% लाभ पर बेचा था?

**Options:**

1) 900

2) 600

3) 400

4) 800

**Correct Answer:** 800

**Candidate Answer:** [ NOT ANSWERED ]

**QID : 258** - 20% of a = b, then b% of 20 is the same as \_\_\_\_\_ of a.

a का 20% = b, तो 20 का b% समान होगा, a का \_\_\_\_\_।

**Options:**

1) 8%

2) 40%

3) 4%

4) 80%

**Correct Answer:** 4%

**Candidate Answer:** [ NOT ANSWERED ]

**QID : 259** - After excluding stoppages, the speed of a bus is 60 kmph and after including stoppages, it is 45 kmph. For how many minutes does the bus stop per hour?

अवरोध को छोड़कर, बस की गति 60 कि.मी. प्रति घंटे और अवरोध सहित, यह गति 45 कि.मी. प्रति घंटे है। यह बस प्रति घंटा कितने मिनट रूकती है?

**Options:**

1) 10

2) 9

3) 12

4) 15

**Correct Answer:** 15

**Candidate Answer:** [ NOT ANSWERED ]

**QID : 260** - The simple and compound interest that can be earned in two years at the same rate is Rs 1,000 and Rs 1,040 respectively. What is the rate (percent per annum) of interest?

साधारण और चक्रवृद्धि ब्याज, जिसे दो साल में एक ही दर से अर्जित किया जा सकता है, वह क्रमशः 1,000 रु और 1,040 रु हैं। ब्याज दर (% प्रति वर्ष) कितनी है?

**Options:**

- 1) 9
- 2) 10
- 3) 8
- 4) 11

**Correct Answer:** 8

**Candidate Answer:** [ NOT ANSWERED ]

**QID : 261** - If  $5/2 - (6/5)(x - 15/2) = -x/5$ , then what is the value of x?

यदि  $5/2 - (6/5)(x - 15/2) = -x/5$ , तो x का मान क्या है?

**Options:**

- 1)  $-23/2$
- 2)  $13/2$
- 3)  $-13/2$
- 4)  $23/2$

**Correct Answer:**  $23/2$

**Candidate Answer:**  $-13/2$

**QID : 262** - If  $a - b = 2$  and  $ab = 24$ , then what is the value of  $a^3 - b^3$ ?

यदि  $a - b = 2$  और  $ab = 24$  है,  $a^3 - b^3$  का मान क्या है?

**Options:**

- 1) 280

2) 124

3) 140

4) 152

**Correct Answer:** 152

**Candidate Answer:** 152

**QID : 263** - Sum of twice a fraction and its reciprocal is  $17/6$ . What is the fraction?

एक भिन्न के दोगुना और उसके व्युत्क्रम का योग  $17/6$  है। वह भिन्न क्या है?

**Options:**

- 1)  $4/3$
- 2)  $5/4$
- 3)  $3/4$
- 4)  $4/5$

**Correct Answer:**  $3/4$

**Candidate Answer:**  $3/4$

**QID : 264** - The 3rd and 7th term of an arithmetic progression are -9 and 11 respectively. What is the 15th term?

एक समांतर श्रेणी का तीसरा और सातवां पद क्रमशः -9 और 11 है। 15वां पद कौन सा है?

**Options:**

- 1) 28
- 2) 87
- 3) 51
- 4) 17

**Correct Answer:** 51

**Candidate Answer:** [ NOT ANSWERED ]

**QID : 265** - What is the reflection of the point (4, 7) in the line  $y = -1$ ?

रेखा  $y = -1$  में बिंदु (4, 7) का प्रतिबिंब क्या है?

**Options:**

- 1) (-6, 7)

2) (-4, -9)

3) (4, -9)

4) (-6, -7)

**Correct Answer:** (4, -9)

**Candidate Answer:** [ NOT ANSWERED ]

**QID : 266** - What are the co-ordinates of the centroid of a triangle, whose vertices are A(2, 5), B(-4, 0) and C(5, 4)?

किसी त्रिकोण के केंद्रक के निर्देशांक क्या हैं, जिसके कोने A (2, 5), B (-4, 0) और C (5, 4) हैं?

**Options:**

- 1) (-1 , 3)
- 2) (1 , 3)
- 3) (1 , -3)
- 4) (-1 , -3)

**Correct Answer:** (1 , 3)

**Candidate Answer:** [ NOT ANSWERED ]

**QID : 267** - Slope of the line AB is  $-2/3$ . Co-ordinates of points A and B are (x , -3) and (5 , 2) respectively. What is the value of x?

रेखा AB का ढलान  $-2/3$  है। बिंदु A और B के निर्देशांक क्रमशः (x, -3) और (5, 2) हैं। x का मान क्या है?

**Options:**

- 1) 4
- 2) -14
- 3) 12.5
- 4) -4

**Correct Answer:** 12.5

**Candidate Answer:** [ NOT ANSWERED ]

**QID : 268** - D and E are points on side AB and AC of  $\triangle ABC$ . DE is parallel to BC. If  $AD:DB = 2:3$ , what is the ratio of area of  $\triangle ADE$  and area of quadrilateral BDEC?

$\triangle ABC$  की भुजा AB और AC पर D और E बिंदु हैं। DE, BC के समानांतर है। यदि  $AD:DB = 2:3$  है, तो  $\triangle ADE$  के और चतुर्भुज BDEC के क्षेत्रफल का अनुपात क्या है?

**Options:**

- 1) 4 : 21
- 2) 4 : 25
- 3) 4 : 29
- 4) 4 : 9

**Correct Answer:** 4 : 21

**Candidate Answer:** [ NOT ANSWERED ]

**QID : 269** - What is the value of  $\cot 60^\circ - \cos 45^\circ$ ?

$\cot 60^\circ - \cos 45^\circ$  का मान क्या है?

**Options:**

- 1)  $(9 - 2\sqrt{3})/9$
- 2)  $(2\sqrt{6} - 1)/\sqrt{3}$
- 3)  $(1 - 2\sqrt{3})/2$
- 4)  $(\sqrt{2} - \sqrt{3})/\sqrt{6}$

**Correct Answer:**  $(\sqrt{2} - \sqrt{3})/\sqrt{6}$

**Candidate Answer:**  $(\sqrt{2} - \sqrt{3})/\sqrt{6}$

**QID : 270** -  $\triangle PQR$  is right angled at Q. If  $m\angle R = 60^\circ$ , what is the length of PR (in cm), if  $RQ = 4\sqrt{3}$  cm?

$\triangle PQR$ , Q पर समकोण है। यदि  $m\angle R = 60^\circ$  है, तो PR की लंबाई (सं.मी. में) क्या है, यदि  $RQ = 4\sqrt{3}$  सं.मी. है?

**Options:**

- 1) 8
- 2) 4
- 3)  $8/\sqrt{3}$
- 4)  $8\sqrt{3}$

**Correct Answer:**  $8\sqrt{3}$

**Candidate Answer:** [ NOT ANSWERED ]

**QID : 271** - If  $\tan \theta = 9/40$ , then  $\sec \theta = ?$

यदि  $\tan \theta = 9/40$ , तो  $\sec \theta = ?$

**Options:**

- 1) 40/41
- 2) 9/41
- 3) 41/40
- 4) 41/9

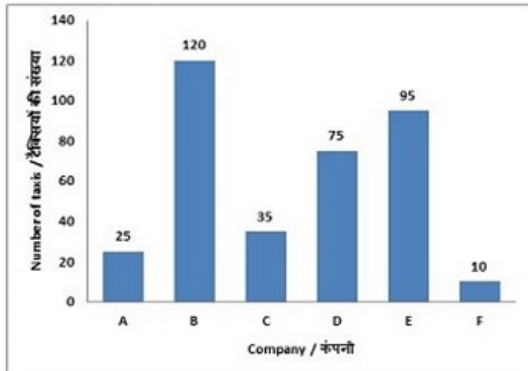
**Correct Answer:** 41/40

**Candidate Answer:** 41/40

**QID : 272 -**

There are six taxi companies (A, B, C, D, E, F) in a certain city. The bar graph shows the number of taxis run by each of these six companies. Study the diagram and answer the following questions.

एक निश्चित शहर में छह टैक्सी कंपनियां (A, B, C, D, E, F) हैं। बार ग्राफ इन छह कंपनियों में से प्रत्येक द्वारा चलाई जाने वाली टैक्सियों की संख्या दर्शाता है। इस आरेख का अध्ययन करें और निम्नलिखित प्रश्नों का उत्तर दें।



Which taxi company has more taxis than A but less than D?

किस टैक्सी कंपनी में A से अधिक और D से कम टैक्सियां हैं?

**Options:**

- 1) B
- 2) C
- 3) F
- 4) E

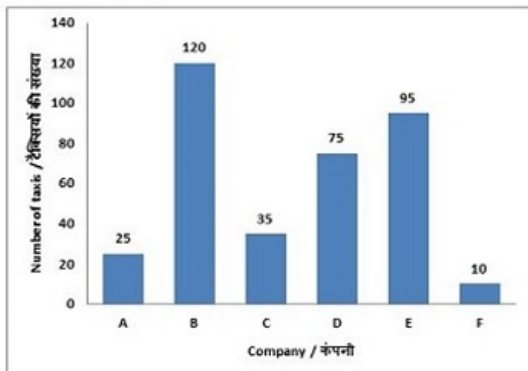
**Correct Answer:** C

**Candidate Answer:** [ NOT ANSWERED ]

**QID : 273 -**

There are six taxi companies (A, B, C, D, E, F) in a certain city. The bar graph shows the number of taxis run by each of these six companies. Study the diagram and answer the following questions.

एक निश्चित शहर में छह टैक्सी कंपनियां (A, B, C, D, E, F) हैं। बार ग्राफ इन छह कंपनियों में से प्रत्येक द्वारा चलाई जाने वाली टैक्सियों की संख्या दर्शाता है। इस आरेख का अध्ययन करें और निम्नलिखित प्रश्नों का उत्तर दें।



If 30 taxis quit company B and joined company D then D will have how many more taxis than C?

यदि 30 टैक्सियां कंपनी B को छोड़ दें और कंपनी D में शामिल हो जाएं तो C की तुलना में D में कितनी अधिक टैक्सियां होंगी?

**Options:**

- 1) 40
- 2) 30
- 3) 110
- 4) 70

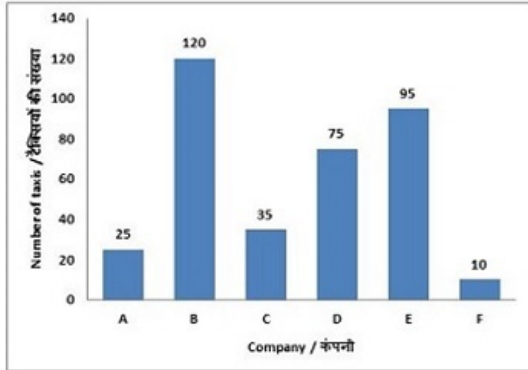
**Correct Answer:** 70

**Candidate Answer:** [ NOT ANSWERED ]

**QID : 274 -**

There are six taxi companies (A, B, C, D, E, F) in a certain city. The bar graph shows the number of taxis run by each of these six companies. Study the diagram and answer the following questions.

एक निश्चित शहर में छह टैक्सी कंपनियां (A, B, C, D, E, F) हैं। बार ग्राफ इन छह कंपनियों में से प्रत्येक द्वारा चलाई जाने वाली टैक्सियों की संख्या दर्शाता है। इस आरेख का अध्ययन करें और निम्नलिखित प्रश्नों का उत्तर दें।



Even if A and C decide to merge, still D will have how many more taxis (in %) than the merged A and C entity?

भले ही A और C विलय करने का निर्णय लें, फिर भी विलीन A और C से बनी सत्व की तुलना में D में कितनी अधिक (%) टैक्सियां होंगी?

**Options:**

1) 15

2) 20

3) 10

4) 25

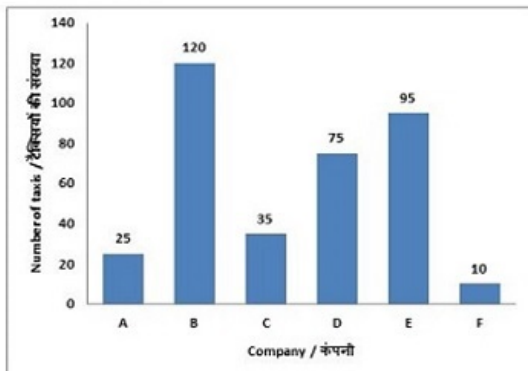
**Correct Answer:** 25

**Candidate Answer:** [ NOT ANSWERED ]

**QID : 275 -**

There are six taxi companies (A, B, C, D, E, F) in a certain city. The bar graph shows the number of taxis run by each of these six companies. Study the diagram and answer the following questions.

एक निश्चित शहर में छह टैक्सी कंपनियां (A, B, C, D, E, F) हैं। बार ग्राफ इन छह कंपनियों में से प्रत्येक द्वारा चलाई जाने वाली टैक्सियों की संख्या दर्शाता है। इस आरेख का अध्ययन करें और निम्नलिखित प्रश्नों का उत्तर दें।



If each taxi on an average runs 100 kms every day and if fuel cost is Rs 3 per km, then all these taxis spend how much (in Rs.) on fuel every day?

यदि प्रत्येक टैक्सी प्रतिदिन औसतन 100 कि.मी. चलती है और यदि ईंधन की लागत 3 रु प्रति कि.मी. हो, तो हर दिन सभी टैक्सियों के लिए ईंधन पर कितना व्यय (रु में) होगा?

**Options:**

- 1) 128000
- 2) 108000
- 3) 118000
- 4) 98000

**Correct Answer:** 108000

**Candidate Answer:** [ NOT ANSWERED ]

**QID : 276** - In the following question, some part of the sentence may have errors. Find out which part of the sentence has an error and select the appropriate option. If a sentence is free from error, select 'No Error'.

I took the shortest (1)/ way through the (2)/ little park close the palace. (3)/No Error (4)

**Options:**

- 1) 1
- 2) 2
- 3) 3
- 4) 4

**Correct Answer:** 3

**Candidate Answer:** 3

**QID : 277** - In the following question, some part of the sentence may have errors. Find out which part of the sentence has an error and select the appropriate option. If a sentence is free from error, select 'No Error'.

As it came to a stop (1)/ the conductor called (2)/ overin a loud voice. (3)/No Error (4)

**Options:**

- 1) 1
- 2) 2
- 3) 3
- 4) 4

**Correct Answer:** 3

**Candidate Answer:** [ NOT ANSWERED ]

**QID : 278** - In the following question, the sentence given with blank to be filled in with an appropriate word. Select the correct alternative out of the four and indicate it by selecting the appropriate option.

**Moving to the city was eye-\_\_\_\_\_ for the straitlaced country girl.**

**Options:**

- 1) clearing
- 2) freeing
- 3) saving
- 4) opening

**Correct Answer:** opening

**Candidate Answer:** opening

**QID : 279** - In the following question, the sentence given with blank to be filled in with an appropriate word. Select the correct alternative out of the four and indicate it by selecting the appropriate option.

**With a blood test, a physician was able to \_\_\_\_\_ the woman's pregnancy.**

**Options:**

- 1) term
- 2) confirm
- 3) firm
- 4) confer

**Correct Answer:** confirm

**Candidate Answer:** confirm

**QID : 280** - In the following question, out of the four alternatives, select the word similar in meaning to the word given.

**Exemption**

**Options:**

- 1) Immunity
- 2) Accountability
- 3) Liability
- 4) Responsibility

**Correct Answer:** Immunity

**Candidate Answer:** [ NOT ANSWERED ]

**QID : 281** - In the following question, out of the four alternatives, select the word similar in meaning to the word given.

**Perverse**

**Options:**

- 1) Agreeable
- 2) Nefarious
- 3) Compliant
- 4) Willing

**Correct Answer:** Nefarious

**Candidate Answer:** [ NOT ANSWERED ]

**QID : 282** - In the following question, out of the four alternatives, select the word opposite in meaning to the word given.

**To maneuver**

**Options:**

- 1) To manipulate
- 2) To proceed
- 3) To cease
- 4) To machinate

**Correct Answer:** To cease

**Candidate Answer:** [ NOT ANSWERED ]

**QID : 283** - In the following question, out of the four alternatives, select the word opposite in meaning to the word given.

**To avert**

**Options:**

- 1) To aid
- 2) To deter
- 3) To forestall
- 4) To preclude

**Correct Answer:** To aid

**Candidate Answer:** [ NOT ANSWERED ]

**QID : 284** - In the following question, out of the four alternatives, select the alternative which best expresses the meaning of the idiom/phrase.

**To go to somebody's head**

**Options:**

- 1) To have a huge ego
- 2) To complain to the highest authority
- 3) To make someone dizzy or slightly drunk
- 4) To arrive at the central point of the topic

**Correct Answer:** To make someone dizzy or slightly drunk

**Candidate Answer:** [ NOT ANSWERED ]

**QID : 285** - In the following question, out of the four alternatives, select the alternative which best expresses the meaning of the idiom/phrase.

**To make amends**

**Options:**

- 1) To make new friends
- 2) To feel guilty for something you have not done
- 3) To compensate
- 4) To make flimsy excuses

**Correct Answer:** To compensate

**Candidate Answer:** To make new friends

**QID : 286** - In the following question, out of the four alternatives, select the alternative which will improve the bracketed part of the sentence. In case no improvement is needed, select "no improvement".

Why should we (**bothered**)?

**Options:**

- 1) bother
- 2) bothering
- 3) to bother
- 4) no improvement

**Correct Answer:** bother

**Candidate Answer:** bother

**QID : 287** - In the following question, out of the four alternatives, select the alternative which will improve the bracketed part of the sentence. In case no improvement is needed, select "no improvement".

I absolutely must (**seen**) him, however painful it may be for me.

**Options:**

- 1) saw
- 2) seeing
- 3) see
- 4) no improvement

**Correct Answer:** see

**Candidate Answer:** see

**QID : 288** - In the following question, out of the four alternatives, select the alternative which is the best substitute of the words/sentence.

**To move back and forth or sideways**

**Options:**

- 1) Sojourn
- 2) Tarrance
- 3) Traverse
- 4) Breather

**Correct Answer:** Traverse

**Candidate Answer:** Traverse

**QID : 289** - In the following question, out of the four alternatives, select the alternative which is the best substitute of the words/sentence.

**The remains of something that has been badly damaged**

**Options:**

- 1) Pristine
- 2) Immaculate
- 3) Wreckage
- 4) Sterile

**Correct Answer:** Wreckage

**Candidate Answer:** Wreckage

**QID : 290** - In the following question, four words are given out of which one word is correctly spelt. Select the correctly spelt word.

**Options:**

- 1) Mutiniers
- 2) Muteneers
- 3) Muteniers
- 4) Mutineers

**Correct Answer:** Mutineers

**Candidate Answer:** Mutineers

**QID : 291** - In the following question, four words are given out of which one word is correctly spelt. Select the correctly spelt word.

**Options:**

- 1) Obeisance
- 2) Obeisanse
- 3) Obesance
- 4) Obesanse

**Correct Answer:** Obeisance

**Candidate Answer:** Obeisance

**QID : 292** - The question below consists of a set of labelled sentences. Out of the four options given, select the most logical order of the sentences to form a coherent paragraph.

Our only enemies were

**X**-heat, thirst, and flies, but far

**Y**-from man or beast than that awful trinity

**Z**-rather would I have faced any danger

**Options:**

- 1) XYZ
- 2) ZYX
- 3) XZY
- 4) ZXY

**Correct Answer:** XZY

**Candidate Answer:** XYZ

**QID : 293** - The question below consists of a set of labelled sentences. Out of the four options given, select the most logical order of the sentences to form a coherent paragraph.

Thus, I stand on a

**X**-hill and watch a labourer

**Y**-upon the distant railway

**Z**-striking with his sledge

**Options:**

- 1) XYZ
- 2) XZY
- 3) ZYX
- 4) ZXY

**Correct Answer:** XZY

**Candidate Answer:** XZY

**QID : 294** - In the following question, a sentence has been given in Active/Passive voice. Out of the four alternatives suggested, select the one which best expresses the same sentence in Passive/Active voice.

**The painter painted the entire bungalow.**

**Options:**

- 1) The entire bungalow is painted by the painter.
- 2) Painting of the entire bungalow was done by the painter.
- 3) The entire bungalow was painted by the painter.
- 4) Painting of the entire bungalow is done by the painter.

**Correct Answer:** The entire bungalow was painted by the painter.

**Candidate Answer:** The entire bungalow was painted by the painter.

**QID : 295** - In the following question, a sentence has been given in Direct/Indirect speech. Out of the four alternatives suggested, select the one which best expresses the same sentence in Indirect/Direct speech.

**The teacher said, "Nobody can solve the problem."**

**Options:**

- 1) The teacher said that nobody can solve the problem.
- 2) The teacher said that nobody should solve the problem.
- 3) The teacher said that somebody can solve the problem.
- 4) The teacher said that nobody could solve the problem.

**Correct Answer:** The teacher said that nobody could solve the problem.

**Candidate Answer:** The teacher said that nobody could solve the problem.

**QID : 296** - A passage is given with 5 questions following it. Read the passage carefully and choose the best answer to each question out of the four alternatives.

**Manja, or the glass-coated string used for flying kites, not only poses threat to humans, animals and birds but also to trees. A study by the country's oldest botanical garden has revealed that it poses a great threat to trees. But how can a snapped string struck in a tree kill the tree? Apparently, it does so by allying with the creepers in the garden.**

**A research paper by three scientists of the Acharya Jagdish Chandra Bose Indian Botanic Garden, located in West Bengal's Howrah district, illustrates in detail how the manja, in collusion with climbers, does the damage. "The abandoned, torn kite strings act as an excellent primary supporting platform for the tender climbers, giving easy passage to reach the top of the trees. Lateral branches from the top of the climber and other accessory branches from the ground reaches the top taking support of the first climber, completely covers the treetop, thus inhibiting the penetration of sunlight," says the research paper.**

Abandoned, torn kite strings stuck in trees benefits whom?

**Options:**

- 1) Humans
- 2) Creepers
- 3) Birds
- 4) Trees

**Correct Answer:** Creepers

**Candidate Answer:** [ NOT ANSWERED ]

**QID : 297** - A passage is given with 5 questions following it. Read the passage carefully and choose the best answer to each question out of the four alternatives.

**Manja, or the glass-coated string used for flying kites, not only poses threat to humans, animals and birds but also to trees. A study by the country's oldest botanical garden has revealed that it poses a great threat to trees. But how can a snapped string struck in a tree kill the tree? Apparently, it does so by allying with the creepers in the garden.**

**A research paper by three scientists of the Acharya Jagdish Chandra Bose Indian Botanic Garden, located in West Bengal's Howrah district, illustrates in detail how the manja, in collusion with climbers, does the damage. "The abandoned, torn kite strings act as an excellent primary supporting platform for the tender climbers, giving easy passage to reach the top of the trees. Lateral branches from the top of the climber and other accessory branches from the ground reaches the top taking support of the first climber, completely covers the treetop, thus inhibiting the penetration of sunlight," says the research paper.**

How many scientists contributed to a study by country's oldest botanical gardens on how manja can kill a tree?

**Options:**

- 1) Two
- 2) Three
- 3) Five
- 4) Four

**Correct Answer:** Three

**Candidate Answer:** Three

**QID : 298** - A passage is given with 5 questions following it. Read the passage carefully and choose the best answer to each question out of the four alternatives.

**Manja, or the glass-coated string used for flying kites, not only poses threat to humans, animals and birds but also to trees. A study by the country's oldest botanical garden has revealed that it poses a great threat to trees. But how can a snapped string struck in a tree kill the tree? Apparently, it does so by allying with the creepers in the garden.**

**A research paper by three scientists of the Acharya Jagdish Chandra Bose Indian Botanic Garden, located in West Bengal's Howrah district, illustrates in detail how the manja, in collusion with climbers, does the damage. "The abandoned, torn kite strings act as an excellent primary supporting platform for the tender climbers, giving easy passage to reach the top of the trees. Lateral branches from the top of the climber and other accessory branches from the ground reaches the top taking support of the first climber, completely covers the treetop, thus inhibiting the penetration of sunlight," says the research paper.**

How can a tree be killed by a creeper?

**Options:**

- 1) By blocking its access to sunlight
- 2) By wrapping its tentacles around its branches
- 3) By sucking away the nutrients
- 4) By secreting toxic chemicals

**Correct Answer:** By blocking its access to sunlight

**Candidate Answer:** [ NOT ANSWERED ]

**QID : 299** - A passage is given with 5 questions following it. Read the passage carefully and choose the best answer to each question out of the four alternatives.

**Manja, or the glass-coated string used for flying kites, not only poses threat to humans, animals and birds but also to trees. A study by the country's oldest botanical garden has revealed that it poses a great threat to trees. But how can a snapped string struck in a tree kill the tree? Apparently, it does so by allying with the creepers in the garden.**

**A research paper by three scientists of the Acharya Jagdish Chandra Bose Indian Botanic Garden, located in West Bengal's Howrah district, illustrates in detail how the manja, in collusion with climbers, does the damage. "The abandoned, torn kite strings act as an excellent primary supporting platform for the tender climbers, giving easy passage to reach the top of the trees. Lateral branches from the top of the climber and other accessory branches from the ground reaches the top taking support of the first climber, completely covers the treetop, thus inhibiting the penetration of sunlight," says the research paper.**

What would be the acronym for India's oldest botanical garden?

**Options:**

- 1) AJCBIBG
- 2) AJCBBG
- 3) AJBCIBG
- 4) AJBCBG

**Correct Answer:** AJCBIBG

**Candidate Answer:** AJCBIBG

**QID : 300** - A passage is given with 5 questions following it. Read the passage carefully and choose the best answer to each question out of the four alternatives.

**Manja, or the glass-coated string used for flying kites, not only poses threat to humans, animals and birds but also to trees. A study by the country's oldest botanical garden has revealed that it poses a great threat to trees. But how can a snapped string struck in a tree kill the tree? Apparently, it does so by allying with the creepers in the garden.**

**A research paper by three scientists of the Acharya Jagdish Chandra Bose Indian Botanic Garden, located in West Bengal's Howrah district, illustrates in detail how the manja, in collusion with climbers, does the damage. "The abandoned, torn kite strings act as an excellent primary supporting platform for the tender climbers, giving easy passage to reach the top of the trees. Lateral branches from the top of the climber and other accessory branches from the ground reaches the top taking support of the first climber, completely covers the treetop, thus inhibiting the penetration of sunlight," says the research paper.**

What gives easy passage to 'climbers' to top of the trees?

**Options:**

- 1) Creepers
- 2) Torn kites
- 3) Lateral branches
- 4) Manja

**Correct Answer:** Manja

**Candidate Answer:** Torn kites